

## THEME 1 LES TERRITOIRES DE LA MONDIALISATION (9-11 H)

- Question obligatoire :Centres d'impulsion et inégale répartition (5H-7H)
- Sujet d'étude au choix :Une ville mondiale Londres ou Shanghai ( 4H-5H)

BO n°33 du 13 septembre 2012.

Question obligatoire (A) et sujets d'étude (B)	Notions	Commentaire
A - Centres d'impulsion et inégale répartition	Aire de puissance Centre d'impulsion Interface Intégration / Marginalisation Mégalopole	A. L'organisation de l'espace mondial est dominée par : l'Amérique du Nord, l'Europe occidentale, l'Asie orientale. On présente les caractères spécifiques de chacune d'elles : la puissance des États-Unis, l'intégration inachevée de l'Europe occidentale et l'affirmation de l'Asie orientale. On montre les éléments relatifs de puissance et de rayonnement des trois grands centres d'impulsion et de commandement que sont les mégalopoles américaine, européenne et l'archipel mégalopolitain asiatique. On met en évidence la polarisation ou la marginalisation des autres territoires tout en précisant que cette hiérarchisation est remise en cause par l'émergence de nouvelles puissances économiques.
B - Sujet d'étude au choix : Une ville mondiale : - Londres - Shanghai		<p>- Ancienne capitale de l'Empire britannique, Londres est une métropole multi-ethnique de rang mondial par sa puissance économique et son rayonnement culturel. On étudie en particulier la City, une des premières places financières du monde, et le rôle que joue cette ville à différentes échelles.</p> <p>- Profitant pleinement de la dynamique du littoral chinois et de son importance croissante dans les échanges internationaux, Shanghai s'impose comme ville mondiale. Le poids du port de Yangshan et la croissance extrêmement rapide du quartier d'affaires du Pudong en constituent deux éléments majeurs. Si sa croissance est principalement localisée dans la métropole portuaire et le littoral, renforçant ainsi les disparités sociales et territoriales, la politique d'aménagement de la vallée du Yangzi tente de mieux la redistribuer vers l'intérieur du pays. initiatives déployées afin de renouveler son attractivité</p>

### Explication

A.Ques° obligatoire : Il faut définir :

- l'organisation de l'espace mondial : domination de trois **aires de puissance** (Amérique du Nord, Europe occidentale et Asie orientale) + polarisation /**marginalisation** des autres territoires (**émergence** des nouvelles puissances économiques)
- chaque aire de puissance en insistant sur les éléments de puissance et de rayonnement des **centres d'impulsion** et de commandement (mégalopole américaine européenne et archipel mégalopolitain asiatique)

B - Sujet d'étude au choix : - une ville mondiale Ex : Londres

- Ville mondiale : puissance économique, culturelle et pluralité ethnique
- Un espace mondialisé : la City une des premières places financières
- Rôle de cette ville à diverses échelles

## Question obligatoire : Centres d'impulsion et inégale répartition

-Introduc° :

- Etudier la notion de **mondialisation** à travers sa territorialisation à diverses échelles
- La mondialisation impacte les territoires et leurs dynamiques : voir la hiérarchisation et typologie des territoires selon l'insertion à la mondialisation et leurs évolutions et recompositions

-Une ques° obligatoire ° + étude de cas (ordre au choix du prof soit en premier soit en dernier (comme approfondissement)

### 1.Enjeux de la ques°

\*Enjeux civiques et politiques :

- Comprendre le monde actuel pour mieux s'y intégrer comme citoyen
- Comprendre la mondialisation
- Avoir un regard critique
- Distinguer les acteurs et leurs responsabilités dans la mondialisation

\*Enjeux scientifiques et didactiques :

- Montrer que la mondialisation est un phénomène géographique au-delà de sa dimension économique
- Comprendre que la mondialisation transforme l'organisation du monde et a donc des effets sur les territoires (facteurs d'intégration et de marginalisation ; la hiérarchisation des territoires à toutes les échelles et les disparités socio-spatiales)
- Consolider les repères géographique à l'échelle mondiale

### 2.Problématique

-Problématique générale du thème : Comment la mondialisation est-elle un facteur de différenciation des territoires ?

-Problématique de la question obligatoire :

- Quelles sont les caractéristiques des pôles et espaces majeurs de la mondialisation et des territoires laissés en marge ?
- Quelle typologie peut-on établir pour rendre compte d'un espace mondial de plus en plus multipolaire ?

### 3.Mise en œuvre en trois points

- **Espace mondial dominé** par trois aires de puissances majeures : Amérique du nord (cumulant les facteurs de domination) , Europe occidentale (très insérée économiquement mais dont la construction est inachevée) ; Asie orientale en pleine expansion qui gère de nombreux défis(inégalités sociales ,droits humains...) =>analyse des éléments de leur puissance et intégration et capacité d'impulsion+voir les fragilités (hégémonie contestée, concurrences) ou faiblesses internes (crises économiques,chômage,veillissement démographique ,dépendance énergétique...)
- Autre échelle : analyse du **rôle des mégalopoles** américaines, européenne et de l'archipel mégalopolitain asiatique, éléments de puissance et de rayonnement .Ce sont des centres d'impulsion à l'échelle mondiale , connectés entre eux et le reste du monde (voir leur rôle interface)
- Etablir **une typologie des territoires** en fonction de leur polarisation ou de leur marginalisation dans la mondialisation : des espaces marginalisés : territoires au faible développement, territoires en manque de stabilité et de sécurité ; des espaces en évolution les puissances émergentes

## Mise en œuvre

- Analyse de cartes mondiales (siège des FTN, villes mondiales, flux de diverses natures...) pour proposer une hiérarchie des territoires
  - Etude de paysages : une mégalopole et un espace marginalisé pour distinguer les facteurs et conséquences socio-spatiales visibles de l'intégration ou marginalisation d'un territoire
- => Voir exemples concrets pour caractériser certains espaces : centres d'impulsion, mégalopole, espaces marginalisés...
- Le changement d'échelle pour voir les impacts de la mondialisation
  - Proposer des croquis ou des schémas sur mégalopoles, typologie des espaces mondialisés, inégale répartition des territoires dans la mondialisation pour localisation et repères géographiques

## **-Sujet d'étude au choix : une =ville mondiale Londres ou Shanghai (4-5H)**

### 1. Enjeux de la ques°

#### \*Enjeux civiques et politiques :

- Comprendre le rôle des différents acteurs de la gouvernance métropolitaine dans le contexte de la mondialisation : assurer la compétitivité face à d'autres territoires, créer les conditions favorables à l'emploi, améliorer la qualité de vie des habitants etc.
- Comprendre à toutes les échelles ce qu'est une ville mondiale
- Analyser les fonctions, les aménagements et les évolutions qui contribuent au poids de Londres dans la hiérarchie des villes mondiale

#### \*Enjeux scientifiques et didactiques

- Comprendre à toutes les échelles ce qu'est une ville mondiale
- Analyser les fonctions, les aménagements et les évolutions qui contribuent au poids de Londres dans la hiérarchie des villes mondiales.
- Montrer les effets spatiaux de la mondialisation à l'échelle d'une grande métropole européenne et mondiale ;

### 2. Problématiques

-Problématique générale du thème : Comment la mondialisation est-elle un facteur de différenciation des territoires ?

-Problématique du sujet d'étude : Pourquoi Londres est-elle une ville mondiale ? Quel est l'impact de la mondialisation pour une grande métropole européenne ?

### 3. Mise en œuvre

#### \*L'hypercentre : la City

- Etude de la CBD+ extensions : Londres un centre financier international
- Un des centres majeurs du marché mondial des capitaux en réseau avec les autres grandes places boursières du monde.
- Premier quartier des affaires européen et l'un des principaux au monde (premier marché mondial des changes, plus grand centre financier au monde pour le prêt bancaire international, le marché des actions et les assurances...) A partir des activités financières se développent des activités de conseil juridique.

=> Cette croissance explique la saturation progressive de la City et le glissement géographique de ses activités vers l'Est en direction des anciens Docks de la Tamise (Quartier de *Canary Wharf*)

### \*Une grande métropole au cœur d'une région dynamique de l'Europe

- Etude pour montrer la place de Londres : au cœur d'une vaste région métropolitaine (« Grand Sud-est de l'Angleterre) aux limites floues avec une population de plus de 20-25 millions d'hab.
- Une des vastes régions d'Europe, les plus puissantes économiquement et l'une des plus riches du monde
- Un vaste espace métropolitain polarisé et structuré par Londres
- Une situation privilégiée : à la porte du continent et sur les rives de la *Northern Range*, intégrée à la dorsale européenne
- Mais l'ensemble du Royaume-Uni ne profite pas des retombées économiques de sa capitale (hommes ressources)

### \*Une métropole de rang mondial

Identification par les élèves des principales fonctions qui contribuent à faire de Londres un pôle décisionnel de l'économie mondiale et l'impact de ces fonctions sur l'organisation urbaine, économique et sociale de la ville-centre et de l'agglomération.

- Un centre politique (première ville mondiale de l'histoire, capitale de l'économie monde britannique) avec de multiples aménagements urbains (transformation radicale du quartier de Stratford...) face aux autres villes mondiales
- Une métropole économique financière culturelle qui concentre l'essentiel des emplois aux échelles régionale et nationale.
- Une métropole rattachée par les transports et les communications à l'archipel métropolitain mondial :Londres un hub majeur pour les liaisons aériennes transatlantiques et relié directement au continent européen depuis la mise en service de l'Eurostar.

### Il faut privilégier :

-Lecture de cartes à diverses échelles pour :

- Localiser les espaces
- et repérer les fonctions dominantes (plan de la City et de ses extensions) ,son rayonnement ou son attractivité (implantation des différents communautés..) les mutations de son territoire urbain (transformation de Canary Wharf ou le quartier populaire gentrifié de Shoreditch...)

=>Voir travaux en TICE ou en SIG.

-Entrée par les paysages urbains

- Réalisation d'un schéma ou d'une carte mentale progressivement sur l'interaction des échelles
- Entrée par les acteurs de la nouvelles gouvernance métropolitaine : maire de Londres, dirigeant d'un grand groupe bancaire ou d'assurance ...

THEME 1 : LES TERRITOIRES DANS LA MONDIALISATION (9-11 H)

- Question obligatoire :Centres d'impulsion et inégale intégration (5H-7H)

- Sujet d'étude au choix :une ville mondiale :Londres ou Shanghai ( 4H-5H)

H	LECON	Notion /Voc	CAPACITE/METHODE	ACTIVITE ELEVE
1+2+ 3+4	<p><u>Introduction :</u></p> <p>Présentation de l'épreuve du Bac -Voir exercice 1.</p> <p><u>I.Une ville mondiale :Londres (sujet d'étude)</u></p> <p>Problématique : Comment Londres est-elle une ville mondiale ?</p> <p><b>A.Un pôle de la mondialisation ....</b> -Voir exercice 2.</p> <p><b>B....qui doit relever des défis pour rester une ville mondiale de premier plan</b> -voir exercice 2.</p> <p>*Que retenir ?</p> <p>Voir exercice 3</p>	<p>Mondialisation Territoire La ville mondiale Une interface Shrinking city Mégalopole Aire de puissance Intégration Marginalisation Centres d'impulsion Pays émergents PMA BRICS FTN AMM</p> <p>Un hub Ville mondiale</p> <p>Gentrification Brexit Mondialisation</p>	<p><b>II.Maîtriser des outils et méthodes spécifiques</b> 1.Exploiter et confronter des informations : <b>Cerner le sens général d'un document</b> ou d'un corpus documentaire, et le mettre en relation avec la situation historique ou géographique étudiée</p> <p><b>I - Maîtriser des repères chronologiques et spatiaux .</b>2. Changer les échelles et mettre en relation : mettre en relation des faits ou événements de natures, de périodes, de localisations spatiales différentes (approches diachroniques et synchroniques).</p> <p><b>II-Maîtriser des outils et méthodes spécifiques.</b> 2.Organiser et synthétiser des informations :réaliser des cartes, croquis et schémas cartographiques, des organigrammes, des diagrammes et schémas fléchés, des graphes de différents types (évolution, répartition)</p>	<p>*Ex 1 : Cerner le sens général du document.</p> <p>*Ex 2 : Mettre en relation deux documents</p> <p>*Ex 3 :Réaliser un schéma.</p>

5+6 +7+8	<u>II.Centres d'impulsion et inégale intégration</u>			
	Problématique : Comment les territoires s'intègrent-ils dans la mondialisation ? Quels en sont les effets pour ces territoires ?			
	<b>A.Des territoires entre intégration et marginalisation</b>	Territoire Mondialisation Territoire Ville mondiale Une interface Intégration	<b>II.Maîtriser des outils et méthodes spécifiques</b>	*Ex 4 : prélever, hiérarchiser et confronter des informations
	-Voir exercice 4		1.Exploiter et confronter des informations : prélever, hiérarchiser et confronter des	
	<b>B.Les territoires de la mondialisation : les centres d'impulsion, les aires de puissance,les mégalo poles, les interfaces ,</b>	Marginalisation Pays émergent BRICS FTN Shrinking city Mégalopole AMM	informations selon des approches spécifiques en fonction du document ou du corpus documentaire	
	-voir exercice 4.			
	*Que retenir ?			
	Voir exercice 5		<b>II-Maîtriser des outils et méthodes spécifiques.</b>	*Ex 5 :Réaliser un croquis .
			2.Organiser et synthétiser des informations :réaliser des cartes, croquis et schémas cartographiques, des organigrammes, des diagrammes et schémas fléchés, des graphes de différents types (évolution, répartition)	
9	COURS DE REVISION			Construire un contrôle
10	CORRECTION DU CONTROLE 1 EN GEO			

## \*Introduction : l'épreuve du baccalauréat

### \*Oralement :

#### 1. Comment se déroule l'épreuve écrite d'Histoire et de Géographie ?

Les élèves avec leur professeur découvrent l'épreuve du baccalauréat.

Dans leur livre, on lit les règles d'épreuve.

Que retenir ?

#### EPREUVE ECRITE

- Deux parties :
  - Une 1<sup>ère</sup> partie sur des questions de connaissances
  - Une seconde partie sur une étude de documents sur les sujets d'étude au choix
- Durée : 2 heures 30
- le coefficient : 2
- Notation
  - Chaque partie est notée sur 10 points

#### EPREUVE ORALE

- Tirage du sujet
  - Sur les questions obligatoires seulement
  - Choix un sujet parmi deux proposés
- Temps de préparation
  - 20 minutes de préparation
- Temps d'oral
  - 10 minutes de présentation de son travail
  - 10 minutes d'entretien : des questions pour préciser certains points abordés.

## Les épreuves du BAC en STMG

### L'ÉPREUVE ÉCRITE D'HISTOIRE-GÉOGRAPHIE

#### Objectifs :

- mobiliser des connaissances fondamentales ;
- exploiter, organiser et confronter des informations ;
- rédiger des réponses construites, mises au service d'une réflexion historique et géographique et montrant une maîtrise correcte de la langue.

**Durée** 2 heures 30

**Coefficient** 2

**Note** sur 20 points

#### 1<sup>re</sup> partie de l'épreuve (notée sur 10 points) : 5 à 7 questions à réponse courte

Le candidat peut être conduit à :

- caractériser un espace, une période, un événement, une situation ou un personnage ;
- citer des acteurs ;
- justifier une affirmation en proposant ou choisissant des arguments ;
- localiser ou compléter un croquis ;
- proposer ou choisir les dates-clefs ou les périodes-clefs d'une évolution ;
- proposer ou choisir une définition pour une notion.

La 1<sup>re</sup> partie porte sur l'ensemble des **QUESTIONS OBLIGATOIRES** du programme.

#### 2<sup>e</sup> partie de l'épreuve (notée sur 10 points) : questions portant sur 1 ou 2 documents

Le candidat traite un seul des 4 exercices proposés.

Les exercices relèvent des 4 « sujets d'étude au choix » correspondant à 2 « thèmes généraux » du programme d'histoire et/ou de géographie (à chaque « thème général » sont associés deux « sujets d'étude au choix »).

Le candidat est conduit :

- à dégager l'apport d'un document à la connaissance d'une question figurant dans les programmes ou à la compréhension d'une notion ;
- ou à mettre en relation deux documents, pour en dégager les points communs, les différences, les oppositions ou les complémentarités.

La 2<sup>e</sup> partie porte sur les **SUJETS D'ÉTUDE** au choix du programme.

#### 2. Comment se déroule l'épreuve orale de contrôle ?

### L'ÉPREUVE ORALE DE CONTRÔLE

L'épreuve porte sur les « questions obligatoires » du programme.

Le candidat choisit un sujet parmi les deux qui lui sont proposés. Ils portent sur des points majeurs des programmes. Ils peuvent être accompagnés d'un ou deux documents. Le temps de préparation est de 20 minutes.

L'épreuve débute par un exposé du candidat (10 minutes au maximum). Elle se poursuit par un entretien avec l'examineur, qui peut déborder le cadre strict du sujet pour traiter de la compréhension d'ensemble de la question obligatoire concernée.

L'examineur évalue la maîtrise des connaissances, l'exploitation des documents ayant éventuellement accompagné le sujet et la clarté de l'exposé.

**Durée** 20 minutes

**Coefficient** 2

**Note** sur 20 points

### 3. Quel a été le sujet l'an dernier ?

-Voir site. Etudiant

#### \*Introduction

-Voir exercice 1

\*Exercice 1 : Cerner le sens général du document

#### Capacités et méthodes

II- Maîtriser des outils et méthodes spécifiques : 1. Exploiter et confronter des informations

- **Cerner le sens général d'un document** ou d'un corpus documentaire, et le mettre en relation avec la situation historique ou géographique étudiée

*Pour aborder ce nouveau thème voyons ensemble ce qu'est la mondialisation partons d'une vidéo faite par un professeur Lionel LACOUX*



## \*Exercice 1 : Cerner le sens général du document

\*Doc 1 : L'inégale intégration des territoires dans la mondialisation d'après une capsule vidéo d'un professeur Lionel LACOUX (Terminale S)

Cette vidéo présente les territoires plus ou moins intégrés à la mondialisation.

\*Source : [https://www.youtube.com/watch?v=d7Qjt\\_YEs6w](https://www.youtube.com/watch?v=d7Qjt_YEs6w)

### \*Définitions

**-La mondialisation** est la généralisation des échanges de toute nature à l'échelle planétaire (Ex la vente d'un produit fabriqué ).

**-Un territoire** est :

- 1.un espace délimité par des frontières et soumis à l'autorité d'un pouvoir central.
- 2.un espace approprié par un groupe selon des références culturelles, historiques ou encore naturelles.Il est souvent organisé et aménagé en fonction de ses besoins, de ses valeurs .p 267.

**-Ville mondiale** est une ville qui concentre les fonctions de commandement et de direction à l'échelle mondiale.

**-Une interface** est une zone de contact entre deux espaces de nature différente. p 149

**-Shrinking city** signifie une ville en déclin ou en dépeuplement urbain

**-Mégalopole** est une vaste région urbaine qui s'organise autour de métropoles reliées entre elle par des réseaux de communication et de transports.p.149

**-Aire de puissance** est un espace régional regroupant plusieurs Etats et qui domine le monde par son influence économique, culturelle, diplomatique et militaire. p. 147

**-Intégration** est un processus qui relie fortement un territoire aux espaces dynamiques de la mondialisation (centres d'impulsion) p. 143

**-Marginalisation** est un processus qui exclut certains espaces trop éloignés du centre et peu reliés à lui . p. 143

**Centres d'impulsion** est un espace de décision qui concentre les différents aspects de la puissance (politique, économique, culturelle...) et qui peut les diffuser à l'échelle mondiale. p. 145

**-Pays émergent** est un pays connaissant un développement économique rapide, avec un PIB par habitant inférieur à celui des pays développés mais s'en rapprochant. p . 266

**-les Pays les Moins Avancés sont** les pays les plus pauvres et les moins développés du monde caractérisés par un niveau de revenu bas, des retards dans le développement humain et une vulnérabilité économique. p. 266

**-Les BRICS** (Brésil,Russie,Inde,Chine,Afrique du Sud) est le groupe des cinq pays émergents dont le poids économique augmente depuis le début du XXI<sup>e</sup> siècle.

**-Les FTN** sont des firmes transnationales à savoir des entreprises dont les activités de décision,de production et de distribution sont implantées au moins dans six pays (voir schéma p. 187). =>p. 264

\*QUESTIONS

1. Recopie le tableau en indiquant à chaque fois des exemples précis de lieux et des chiffres.

Type d'espaces liés à la mondialisation	Exemples de territoires . <i>N'oublie d'indiquer des lieux précis à chaque fois.</i>	Relève une caractéristique pour chaque territoire cité.
Les territoires intégrés à la mondialisation : des territoires mondialisés	<ul style="list-style-type: none"> <li>■ ..... ..... ..... ..... .....</li> <li>■ ..... ..... ..... ..... .....</li> <li>■ ..... ..... ..... ..... .....</li> <li>■ ..... ..... ..... ..... .....</li> </ul>	<ul style="list-style-type: none"> <li>■ ..... ..... ..... ..... .....</li> <li>■ ..... ..... ..... ..... .....</li> <li>■ ..... ..... ..... ..... .....</li> <li>■ ..... ..... ..... ..... .....</li> </ul>
Les territoires en voie d'intégration de la mondialisation :	<ul style="list-style-type: none"> <li>■ ..... ..... ..... ..... .....</li> </ul>	<ul style="list-style-type: none"> <li>■ ..... ..... ..... ..... .....</li> </ul>

	<ul style="list-style-type: none"><li>■ .....</li></ul>	<ul style="list-style-type: none"><li>■ .....</li></ul>
Les territoires en marge de la mondialisation	<ul style="list-style-type: none"><li>■ .....</li></ul>	<ul style="list-style-type: none"><li>■ .....</li></ul>

CORRECTION \*Exercice 1 : Cerner le sens général du document .

\*Doc 1 : L'inégale intégration des territoires dans la mondialisation d'après une capsule vidéo d'un professeur Lionel LACOUX (Terminale S)

Cette vidéo présente les territoires plus ou moins intégrés à la mondialisation.

\*Source : [https://www.youtube.com/watch?v=d7Qjt\\_YEs6w](https://www.youtube.com/watch?v=d7Qjt_YEs6w)

\*QUESTIONS

1. Complète le tableau en indiquant à chaque fois des exemples précis de lieux et des chiffres.

Type d'espaces liés à la mondialisation :	Exemples de territoires .N'oublie d'indiquer des lieux précis à chaque fois.	Relève une caractéristique pour chaque territoire cité.
Les <b>territoires</b> intégrés à la <b>mondialisation</b> : des territoires mondialisés	<ul style="list-style-type: none"> <li>▪ La Triade que l'on appelle aujourd'hui <b>aires de puissances</b> : Etats-Unis, Canada, Union européenne, Asie orientale</li> <li>▪ Les métropoles mondiales véritables <b>centres d'impulsion</b> : New-York, Londres, Paris, Shanghai</li> <li>▪ Les quartiers des affaires : la City à Londres, Pudong à Shanghai, la Défense Paris</li> <li>▪ Les <b>interfaces</b> maritimes : la façade américaine atlantique et celle du Pacifique, la façade européenne (<i>Northern Range</i>) les façades du Japon et de la Chine littorale</li> </ul>	<ul style="list-style-type: none"> <li>▪ Ils contrôlent de plus 50% des exportations mondiales</li> <li>▪ Shanghai est la 1<sup>ère</sup> place financière du monde.</li> <li>▪ Londres : 1<sup>ère</sup> centre financier du Royaume-Uni</li> <li>▪ C'est la littoralisation des hommes et des activités Ex : en Chine littorale</li> </ul>
Les territoires en voie d'intégration de la mondialisation :	<ul style="list-style-type: none"> <li>▪ <b>Les puissances émergentes</b> : Mexique Argentine</li> <li>▪ dont Les <b>BRICS</b> (Brésil Russie Inde Chine Afrique du Sud)</li> <li>▪ Les pays pétroliers : Qatar Arabie Saoudite etc</li> </ul>	<ul style="list-style-type: none"> <li>▪ Ce sont les pays en croissance économique.</li> <li>▪ La Chine est le 1<sup>er</sup> pays exportateur au monde en 2010</li> <li>▪ Qatar a racheté le PSG.</li> </ul>
Les territoires en marge de la mondialisation	<ul style="list-style-type: none"> <li>▪ Les <b>PMA</b></li> <li>▪ Les espaces urbains en crise : des bidonvilles de <i>Rabat</i>, le <i>slum Dharavi (Mumbai)</i> les <i>favelas</i> de Rion</li> <li>▪ Villes en crise : <i>shrinking cities</i> ex Détroit</li> <li>▪ Angles morts : forêt équatoriale (Amazonie) ; Sahara et monde arctique</li> </ul>	<ul style="list-style-type: none"> <li>▪ 49 PMA</li> <li>▪ Espaces où la misère domine</li> <li>▪ Faillite économique depuis le déclin de l'activité automobile juillet 2013</li> <li>▪ Espaces non exploités</li> </ul>

\*Oralement :

-Cette vidéo dure 9 min 51 .Elle permet de voir les divers territoires liés ou pas à la mondialisation

\*Compte rendu de la la vidéo

▪ **Des territoires mondialisés**

**« 1<sup>er</sup> espace mondialisé**

-La Triade qui se compose des Etats-Unis, du Canada, de l'Union européenne et de l'Asie Orientale.

-Ce sont les territoires dominant de l'espace mondial.

-Ils produisent 60% de la richesse mondiale pour 38% de la population de la planète.

-Ils contrôlent 50% des exportations mondiales et 85% d'investissements en recherche et en développement.

-Elle est à l'origine de la mondialisation . C'est le berceau du capitalisme .Ils ont initié une véritable révolution technologique sur l'information et de la communication c'est la troisième révolution .

-Sa force réside dans la diffusion de son modèle économique le capitalisme, son modèle politique la démocratie mais aussi son modèle culturel (alimentation ,loisirs,culture,mode de vie,vêtements ...)

**2<sup>e</sup> espace mondialisé : les métropoles mondiales**

-New-York , Tokyo, Londres et Paris mais ce réseau des villes a tendance à s'élargir : Shanghai 1<sup>er</sup> port mondial 1<sup>ère</sup> place financière du monde ou Johannesburg 1<sup>ère</sup> place financière d'Afrique .

-Ces métropoles ont des relations complémentaires et sont en rivalité. Elles sont connectées en réseau c'est l'archipel mégapolitain mondial (**AMM**) avec leurs places financières et les sièges des firmes transnationales.

-Au sein de ses métropoles, les quartiers des affaires illustrent cette mondialisation par exemple le quartier de la City à Londres ou Pudong à Shanghai ou le quartier de la Défense à Paris.

-Ces métropoles rivalisent entre elles pour affirmer leur puissance avec l'accueil des grands événements sportifs : la COP21 en 2015 à Paris , la coupe mondiale de football en Russie en 2018 , le 8<sup>e</sup> forum mondial de l'eau à Brasilia an Brésil ;

-L'événement sportif est devenu un enjeu de la compétition métropolitaine : l'attribution des jeux olympiques en 2024 à Paris et Los Angeles 2028 ,une coupe du monde de rugby de 2023 à Paris ou une exposition universelle de 2025

-Les métropoles mondiales rencontrent deux grands phénomènes : la métropolisation (forte concentration des hommes et des fonctions les plus importantes dans les villes majeures d'un pays) et un étalement urbain .

-La Mégalopole est une grande région urbaine formée par un tissu urbain continu constitué de plusieurs métropoles qui se rejoignent et vont se connecter entre elles.

- La mégalopole européenne la mégalopolis du nord-est des Etats-Unis ou la mégalopole japonaise autour de la capitale Tokyo
- Certaines villes mondiales ont le siège d'organisation internationales : FMI à Washington, ONU à New York

### **3<sup>e</sup> espace mondialisé : les interfaces maritimes**

-La façade du Japon , de la Chine Littorale ,la Northern Range (la façade européenne )

-La mégalopolis côte est américaine et la façade côte pacifique des Etats-Unis

-Les plus puissantes façades concentrent les plus grands ports et les plus grands flux mondiaux= grandes métropoles

-Cette mondialisation s'accompagne d'une littoralisation (processus de concentration démographique portuaire et urbain sur les espaces littoraux .Ces littoraux jouent un rôle fondamental d'interface qui facilitent les échanges mondiaux .Ce sont souvent les espaces les plus dynamiques des territoires .Ils concentrent les activités économiques et industrielles »

#### **▪ Des territoires en voie d'intégration :**

-Les pays émergents (Argentine, Mexique) et parmi les pays émergents, il y a les BRICS qui jouent un rôle croissant dans l'organisation mondiale des territoires.

Deux géants démographiques : L'Inde (plus d'un milliard 1214 d'hommes) et la Chine (plus d'un milliard 354 d'hommes)

Des pays au dynamisme économique croissant + 7,5% pour le Brésil , + 9,7% pour l'Inde et 10,5% pour la Chine.

Des pays qui jouent un rôle dans l'économie mondiale. Ils bénéficient de la Division internationale du travail (DIT) pour assurer le développement économique et leurs FTN sont en concurrence avec celles du Nord.

Ces pays émergents sont en concurrence aux pays du Nord .Ce sont des puissances régionales comme la Chine 1<sup>er</sup> rang pour les exportations en 2010.

Aujourd'hui c'est la première puissance économique depuis 2015 qui conserve de fortes inégalités socio-spatiales malgré des villes mondiales (Sao Paulo, Johannesburg, Mumbai ;Benjing ,Shanghai).

-les pays pétroliers qui bénéficient une grande richesse : le pétrole. L'Arabie Saoudite compte 11,5 millions de dollars par jour en 2013 .Il dispose une manne financière très importante les pétro-dollars. Cet argent permet le développement des pays et de financer le tourisme comme par exemple à Dubaï ou des investissements à l'étranger dans les pays du nord comme le Qatar qui a racheté le PSG.

#### **▪ Territoires en marge de la mondialisation**

-les PMA, les pays les moins avancés sont des territoires en difficultés : 49 sur la planète et une majorité en Afrique subsaharienne . La question du développement y est centrale : la faillite de l'état , l'absence de couverture sociale défailante, une insuffisance de la santé et de l'éducation, des infrastructures insuffisants (problème d'eau potable de tout à l'égout...), des ressources pillées par des FTN des pays développés avec la complicité des élites et du pouvoir . On peut citer l'exemple des diamants au Sierra Léone ou encore les minerais au Congo etc.

Parfois , l'exploitation des ressources naturelles est un enjeu des conflits entre les territoires comme les mines d'or en République démocratique du Congo (RDC).

*\*Doc 1 : Capture de la vidéo : une carte de la RDC*



*-Certains territoires refusent la mondialisation*

- *Les dictatures comme la Corée du Nord , une dictature communiste qui refuse l'intégration dans la mondialisation par choix idéologique communiste .*

*-Des territoires en marge à toutes les échelles*

- *Les favelas de Rio de Janeiro , les slums de Dharavi (Mumbai) ou les bidonville à Rabat dans les pays émergents mais aussi les quartiers en difficulté dans les métropoles du nord comme ceux de Scampia (Italie)*
- *des villes victimes de la mondialisation par le recul de leur activité : les shrinking cities, villes qui rétrécissent et qui connaissent une diminution des activités économiques et de la population comme la ville de Détroit en faillite en juillet 2013 après la disparition d'activités liées à l'industrie automobile.*
- *Des angles morts de la mondialisation : des espaces qui pour des raisons géographiques ( climats, milieux) ne se retrouvent pas dans le circuit et dans les flux de la mondialisation comme le monde arctique, le Sahara ou la forêt équatoriale d'Amérique du Sud. »*

*Voyons une ville qui se veut mondiale Londres.*

## I. Une ville mondiale : Londres (sujet d'étude)

Problématique : Comment Londres est-elle une ville mondiale ?

### **A. Un pôle de la mondialisation ....**

-Voir exercice 2.

**I - Maîtriser des repères chronologiques et spatiaux .2.** Changer les échelles et mettre en relation : mettre en relation des faits ou événements de natures, de périodes, de localisations spatiales différentes (approches diachroniques et synchroniques).

\*Exercice 2 : Mettre en relation deux documents .

### **A. Un pôle de la mondialisation ....**

1. Docs 3+4 p 157 : Montre que Londres est une ville mondiale ..

2. Docs 3+4 p 157 . Montre le rôle moteur de Londres à d'autres échelles (régionale et locale) -

### **B....qui doit relever des défis pour rester une ville mondiale de premier plan**

3 . Docs 5 + 7 p 158 : Relève les problèmes auxquels Londres est confrontée. Puis présente les solutions envisagées.

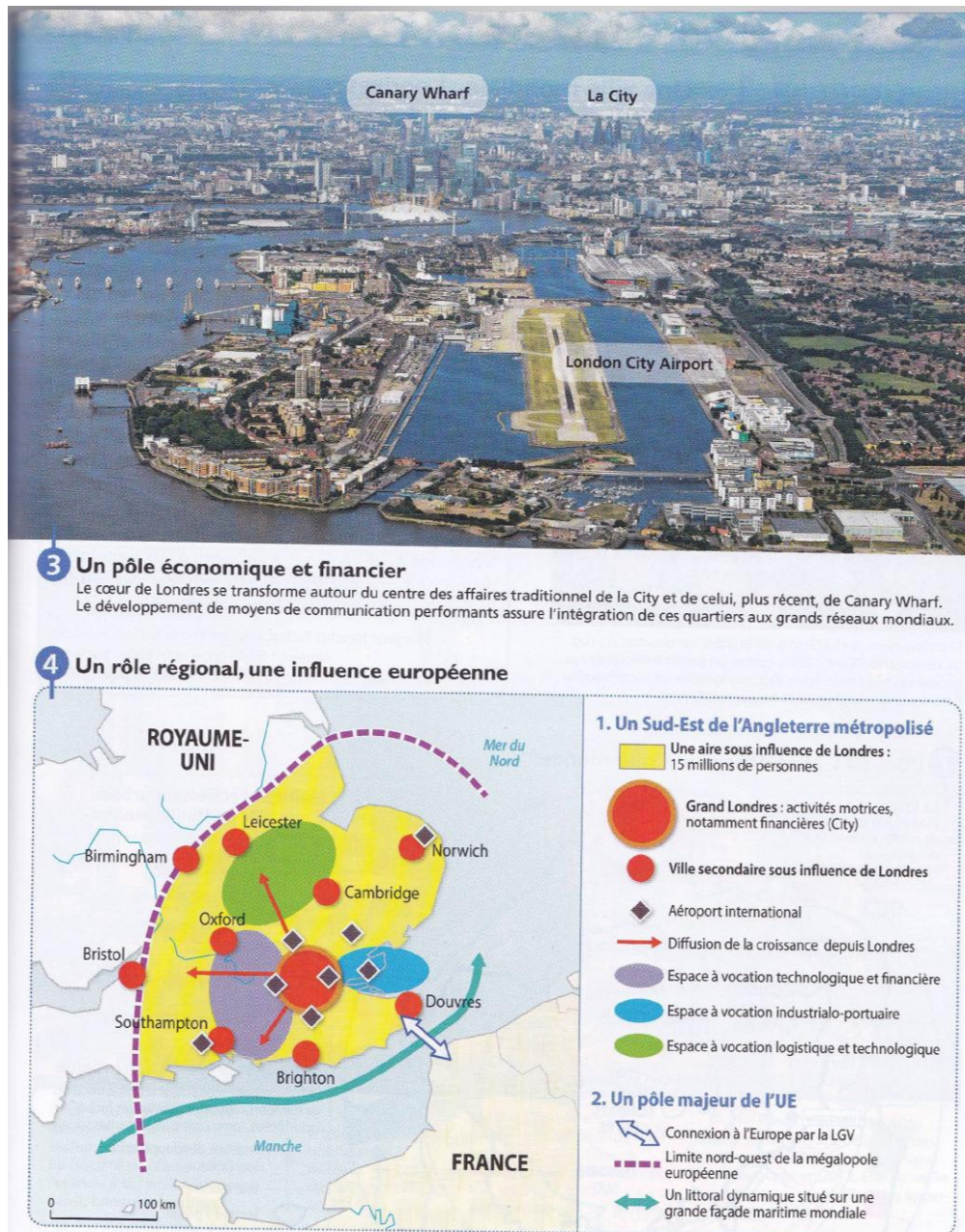
4. Doc 7 p 158+ Doc 9 p 159 : Montre que Londres choisit de se transformer pour rester une ville mondiale. Indique quelles activités sont privilégiées et donne une raison à cette transformation.

5. Docs 11 p 160 et 12 p 161 : Relève les menaces et les effets positifs du Brexit sur Londres .



## CORRECTION

\*Exercice 2 : Mettre en relation deux documents .



\*Source : Vincent DOUMERC (coordination), 2017, Manuel scolaire Histoire Géographie Terminale STMG MAGNARD, Page 157

## QUESTION

1. Docs 3+4 p 157 : Montre que Londres est une ville mondiale .

-A l'échelle de la ville (doc 3 p 157) , Londres est un pôle économique et financier de premier ordre .

- La *City* au fond de la photographie (doc 3 p 157) représente le centre financier du Royaume-Uni et la 1<sup>ère</sup> place financière mondiale devant New York.
- *Canary Wharf* est un quartier d'affaires mondial animé comportant de nombreux gratte-ciel et bien connecté (voir son réseau d'internet performant) . Les FTN y sont nombreuses.
- London City Airport, l'aéroport proche de la City permet de connecter le centre de la ville au reste du monde.

-A l'échelle de la région (doc 4 p 157 ), Londres est la ville la plus importante de la région du Sud-est de l'Angleterre avec plus de 15 millions de personnes (doc 4 légende « une aire d'influence de Londres ») .

- Cette ville attire les hommes et les activités On parle de métropolisation. (doc 4 p 157 légende « un Sud-Est de l'Angleterre métropolisé »).
- Londres est un « pôle majeur de l'Union européenne » (doc 4 légende) bien connecté à l'Europe par la LGV et par son aéroport. Ce dernier est le 1<sup>er</sup> aéroport européen, le second aéroport mondial pour le trafic de passagers internationaux. On parle d'un **hub** européen. Londres donne sur « la façade maritime mondiale » (doc 4 p 157 légende)
- Plusieurs activités mondiales s'y développent : la communication , la finance , la recherche , la haute technologie , l'industrie, le commerce international (doc 4 légende « espace à vocation technologique, espace à vocation industrialo-portuaire, espace à vocation logique et technologique »).

### Oralement

-La photo (doc 3 p 157 ) permet de distinguer les espaces économiques (Canary Wharf quartier des affaires) et financières ( la City) et les infrastructures (aéroport) .

-La carte (doc 4 p 157 ) permet de voir l'influence de Londres sur le Sud-est anglais : une ville qui domine par ses activités et par son nombre d'habitants , une ville qui est bien connecté au reste de l'Europe. La haute technologie correspond à l'installation de géants les GAFa Google Apple Facebook=> doc 14 p 161 .Une main d'œuvre multiethnique y travaille dans cette ville.

-Un **hub** est un nœud d'un réseau de transport qui concerne et redistribue les voyageurs et le fret (marchandises) vers de nombreuses destinations.

#### 14 **Doc BAC** L'influence du Brexit sur les investissements à Londres

L'annonce par Facebook de la construction d'un nouveau siège et de la création de 500 emplois représente une bonne nouvelle de plus pour Londres, qui confirme son statut de capitale européenne des nouvelles technologies malgré la perspective du Brexit. Apple, Google et maintenant Facebook : en l'espace de quelques semaines ces trois géants américains de l'Internet et des technologies ont tous annoncé des investissements au Royaume-Uni et en particulier dans la capitale, avec le plus souvent des embauches à la clé. Ces décisions éloignent un peu plus les craintes d'une perte d'attractivité du pays, alors que de sérieux doutes ont émergé depuis le vote pour le Brexit fin juin, qui pourrait avoir comme conséquence une perte de l'accès sans entrave au marché unique européen. [...] Ces annonces consacrent Londres comme capitale technologique, au moment où vient d'être publiée une étude menée par le *European Digital Forum* estimant qu'il s'agit de la meilleure ville d'Europe pour les start-up du numérique. [...] L'enquête salue notamment l'accès au financement, la culture entrepreneuriale ainsi que la présence d'une main-d'œuvre qualifiée, observant que « *malgré les craintes liées au Brexit, la ville attire encore de grands talents en provenance du monde entier* ».

« Londres confirmée comme capitale technologique malgré le Brexit », lefigaro.fr et AFP, 21 novembre 2016.

\*Source : Vincent DOUMERC (coordination), 2017, Manuel scolaire Histoire Géographie Terminale STMG MAGNARD , Page 161

2. Docs 3+4 p 157 .Montre le rôle moteur de Londres à d'autres échelles (régionale et locale) Londres a un rôle moteur à l'échelle locale comme place financière et économique centrée sur la City relié à un aéroport international (doc 3 p 157) et à l'échelle régionale comme la ville la plus importante de la région du Sud-est. (doc 4 p 157)

\*Que retenir ?

-Londres, capitale du Royaume-Uni domine la région du Sud-est de l'Angleterre.

-Cette ville mondiale a de nombreux atouts :

- 1<sup>ère</sup> place financière du monde,
- 1<sup>er</sup> aéroport européen,
- Une main d'œuvre multiethnique et bien formée
- une forte présence dans les hautes technologies et un pôle bien connecté.
- Elle s'affirme comme l'un des principaux pôles de l'archipel mégalopolitain mondial (AMM)

**B....qui doit relever des défis pour rester une ville mondiale de premier plan**

-voir exercice 2.



\*Source : Vincent DOUMERC (coordination), 2017, Manuel scolaire Histoire Géographie Terminale STMG MAGNARD, Page 158

**QUESTIONS**

3. Docs 5 + 7 p 158 : Relève les problèmes auxquels Londres est confrontée. Puis présente les solutions envisagées.

-Les problèmes de Londres sont :

- le prix élevé de l'immobilier qui aboutit à des loyers trop chers pour les populations africaines et caribéenne (doc 5 p 158). Cette situation est dénoncée par les habitants de Brixton qui sont victimes de la *gentrification*.
- Des infrastructures anciennes d'où la rénovation urbaine de la voie routière (doc 7 p 158)
- Des logements anciens d'où la rénovation urbaine des logements (doc 7 p 158)
- Du chômage d'où la rénovation urbaine pour lutter contre les disparités sociales (doc 7 p 158) .

-Les solutions sont la rénovation des logements , le développement du transport collectif, une réhabilitation des friches industrielles pour attirer des sociétés et lutter contre les disparités sociales ( doc 7 p 158).Il y a aussi la création de villes nouvelles pour structurer l'étalement urbain et donc attirer des populations nouvelles . Un projet de développement économique est mis en place : le Thames Gateway.

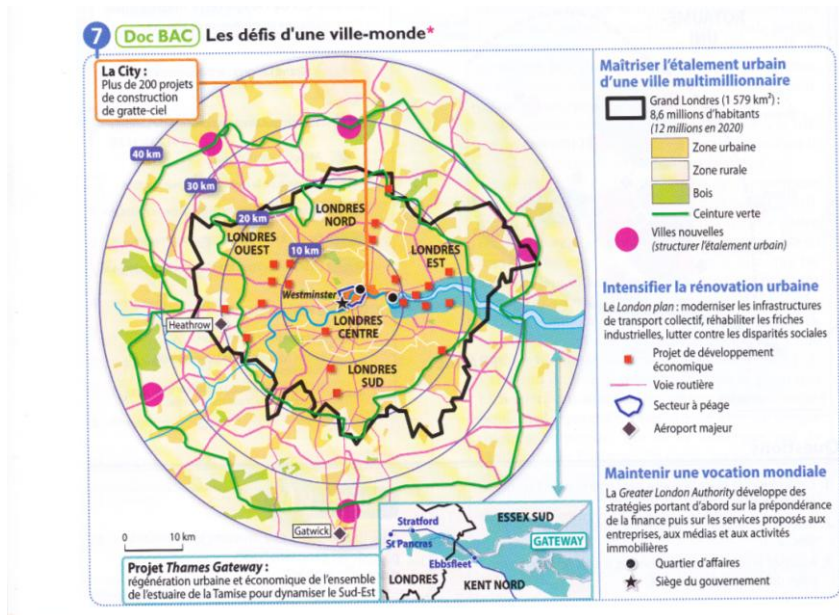
\*Oralement

*Cette question permet de cibler les problèmes posés par la ville monde et de voir les solutions.*

Définition

**La gentrification** est l'installation de catégories sociales aisées dans des quartiers urbains autrefois populaires et qui ont été réhabilités.p. 264 .

## QUESTIONS



\*Source : Vincent DOUMERC (coordination), 2017, Manuel scolaire Histoire Géographie Terminale STMG MAGNARD, Page 158



\*Source : Vincent DOUMERC (coordination), 2017, Manuel scolaire Histoire Géographie Terminale STMG MAGNARD, Page 159

4.Doc 7 p 158+ Doc 9 p 159 : Montre que Londres choisit de se transformer pour rester une ville mondiale. Indique quelles activités sont privilégiées et donne une raison à cette transformation.

-Londres multiplie les projets . Londres devient verticale.

-On peut citer la construction de gratte-ciel à la City avec plus de 200 projets (doc 7 p 158) et l'édification du Cornichon , immeuble pour la société d'assurance (numéro 1) , la « Râpe à fromage » (numéro 2) qui contient des bureaux la « Talkie-Walkie » avec un jardin (numéro 3) et The Shard avec des bureaux et un hôtel (numéro 4) au doc 9 p 159. Les activités privilégiées sont le tourisme avec les hôtels et les activités économiques tertiaires avec les bureaux. Ces activités rapportent beaucoup à la ville qui se transforme et s'ouvre . Ainsi par internet, la ville développe son pôle financier .

\*Oralement

La carte permet de situer les lieux de transformations proche de la City et la photographie permet d'étudier plusieurs projets architecturaux de Londres.


## 11 Doc BAC Les effets à court terme du Brexit sur Londres

Depuis la victoire du « Leave » au référendum, la livre sterling a perdu environ 10 % de sa valeur face à l'euro et au dollar. Une aubaine pour les touristes qui profitent de cette baisse des prix pour venir visiter le Royaume-Uni. Le site Forwardkeys.com, spécialiste du tourisme, a fait une étude comparative avant et après le référendum du 23 juin. Le résultat est sans appel : alors que les réservations aériennes avaient baissé de

2,8 % le mois précédant le Brexit, elles ont augmenté de 4,3 % en seulement quelques semaines, après le vote. Les réservations effectuées hors d'Europe ont connu la plus forte hausse, de 8,6 %, après le résultat du référendum. [...] Les Européens sont quant à eux 5 % de plus à vouloir visiter le Royaume-Uni.

Julia Blancheton, « Le Brexit booste le tourisme au Royaume-Uni », Lefigaro.fr, 9 août 2016.

\*Source : Vincent DOUMERC (coordination), 2017, Manuel scolaire Histoire Géographie Terminale STMG MAGNARD, Page 160



\*Source : Vincent DOUMERC (coordination), 2017, Manuel scolaire Histoire Géographie Terminale STMG MAGNARD, Page 161

## QUESTION

5. Docs 11 p 160 et 12 p 161 : Relève les menaces et les effets positifs du Brexit sur Londres .
- Les menaces sont la perte de valeur pour la livre sterling face à l'euro et au dollar (« -10% » doc 11 p 160 ) et un isolement pour le commerce mondiale (doc 12 p 161) .
  - Les effets positifs sont que les touristes peuvent dépenser plus en raison d'une monnaie plus forte.

### \*Définition

Le terme **Brexit** est utilisé pour désigner le scénario de la sortie du Royaume-Uni de l'Union européenne. C'est une expression créée au 21ème siècle et qui vient de la contraction de deux mots anglais, "British" (britannique) et "Exit" (sortie).

\*Exercice 3 : Réaliser un schéma .

II-Maîtriser des outils et méthodes spécifiques. 2.Organiser et synthétiser des informations :réaliser des cartes, croquis et schémas cartographiques, des organigrammes, des diagrammes et schémas fléchés, des graphes de différents types (évolution, répartition)

### \*Oralement :

-C'est l'occasion d'aborder le rôle du schéma :il résume le cours .Il contient une légende organisée (voir schéma page 162)

La légende doit être faite en dessous du schéma .

\*Sur le site de MAGNARD

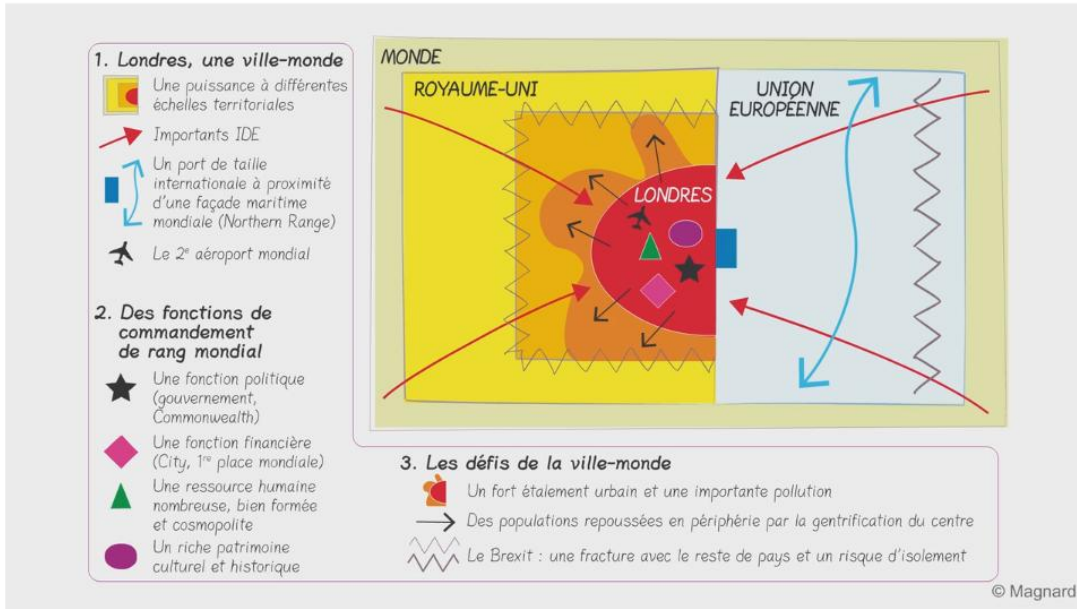
Accéder aux ressources : <http://www.lienmini.fr/>

Il faut ensuite taper le lien sur le livre **hg-tle-011** pour la carte page 162

Schéma entier sous forme vidéo



## HISTOIRE GÉOGRAPHIE TLE STMG - SCHÉMAS BILANS



### UNE VILLE MONDIALE : LONDRES

© Magnard

**AC Réviser** Une ville mondiale : Londres  
le sujet d'étude

Schéma-bilan commenté

lienmini.fr/hg-tle-011

**1. Londres, une ville-monde**

- Une puissance à différentes échelles territoriales
- Importants IDE
- Un port de taille internationale à proximité d'une façade maritime mondiale (Northern Range)
- Le 2<sup>e</sup> aéroport mondial

**2. Des fonctions de commandement de rang mondial**

- Une fonction politique (gouvernement, Commonwealth)
- Une fonction financière (City, 1<sup>re</sup> place mondiale)
- Une ressource humaine nombreuse, bien formée et cosmopolite
- Un riche patrimoine culturel et historique

**3. Les défis de la ville-monde**

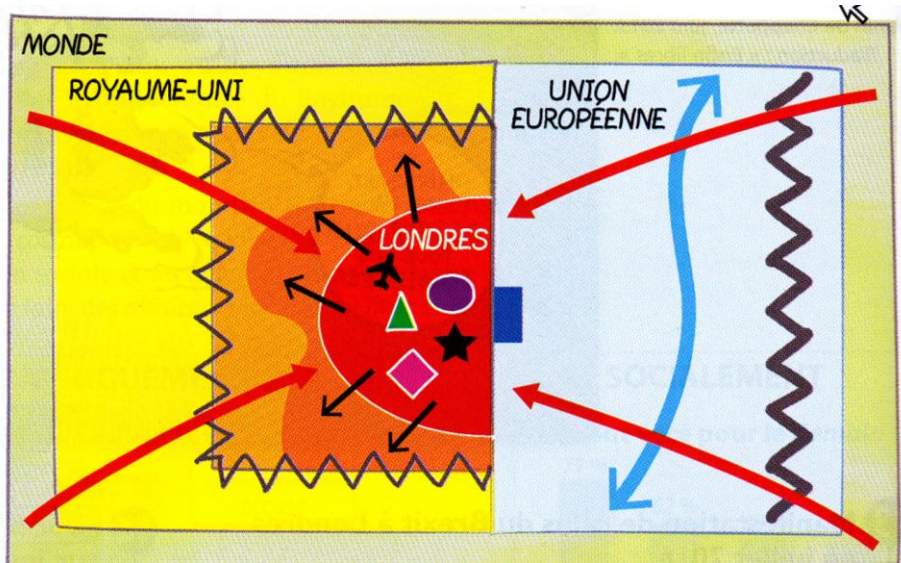
- Un fort étalement urbain et une importante pollution
- Des populations repoussées en périphérie par la gentrification du centre
- Le Brexit : une fracture avec le reste de pays et un risque d'isolement

\*Source : Vincent DOUMERC (coordination), 2017, Manuel scolaire Histoire Géographie Terminale STMG MAGNARD, Page 162

\*Que retenir ?

+ Schéma page 162

SCHEMA : Une ville mondiale :Londres.






### 1. Londres, une ville-monde

-  Une puissance à différentes échelles territoriales
-  Importants IDE
-  Un port de taille internationale à proximité d'une façade maritime mondiale (Northern Range)
-  Le 2<sup>e</sup> aéroport mondial

### 2. Des fonctions de commandement de rang mondial

-  Une fonction politique (gouvernement, Commonwealth)
-  Une fonction financière (City, 1<sup>re</sup> place mondiale)
-  Une ressource humaine nombreuse, bien formée et cosmopolite
-  Un riche patrimoine culturel et historique

### 3. Les défis de la ville-monde

-  Un fort étalement urbain et une importante pollution
-  Des populations repoussées en périphérie par la gentrification du centre
-  Le Brexit : une fracture avec le reste de pays et un risque d'isolement



-Londres est une métropole qui se transforme pour rester une ville mondiale importante (voir les transformations architecturales : des immeubles de plus en plus verticaux ) .

-Elle doit faire face à plusieurs défis :

- réduire les inégalités socio-spatiales issues de la mondialisation (certaines populations et quartiers sont en marge de la mondialisation ) ,
- faire face à la pollution et aux embouteillages
- gérer le Brexit et ses conséquences

-L'avenir de Londres est incertain .

## II. Centres d'impulsion et inégale intégration

Problématique : Comment les territoires s'intègrent-ils dans la mondialisation ? Quels en sont les effets pour ces territoires ?

### **A. Des territoires entre intégration et marginalisation**

-Voir exercice 4

### **B. Les territoires de la mondialisation : les centres d'impulsion, les aires de puissance, les mégalo-pôles, les interfaces ,**

-voir exercice 4.

## CAPACITES ET METHODES

**II. Maîtriser des outils et méthodes spécifiques** 1. Exploiter et confronter des informations : prélever, hiérarchiser et confronter des informations selon des approches spécifiques en fonction du document ou du corpus documentaire

\*Exercice 4 : prélever, hiérarchiser et confronter des informations

## QUESTION

### **A. Des territoires entre intégration et marginalisation**

1. Doc 1 p 142 et 3 p 143 : Décris les territoires qui se marginalisent ou ceux qui attirent les hommes et les activités grâce à la mondialisation et précise à chaque fois l'échelle. Justifie avec les deux documents .

2. Doc 2 p 142+ 4 p 143 : Donne les principales raisons qui peuvent expliquer la marginalisation de certains territoires. Justifie avec les deux documents en précisant les territoires concernés.

3. Doc 2 p 144+ 4 p 145 : Pourquoi peut-on dire que les Etats-Unis possèdent un centre d'impulsion qui est un centre décisionnel ?

**B. Les territoires de la mondialisation : les centres d'impulsion, les aires de puissance, les mégalopoles, les interfaces maritimes .**

4. Doc 1 p 146 +3 p 152. Complète le tableau suivant en t'aidant des documents proposés.

<p>L'....., un pôle lié à la puissance étatsunienne.</p>	<p>L'intégration inachevée de l'Europe</p>	<p>L'affirmation d'une aire de puissance asiatique.</p>
<p>-Les ..... représentent un quart de la richesse mondiale pour 5,4% de la population.</p> <p>-Ils possèdent un tiers des 500 plus grandes firmes mondiales et des chercheurs.</p> <p>-Ils ont une puissance militaire sans égale dans le monde</p> <p>-Ils exportent leur modèle culturel dans le monde.</p> <p>-Le ..... membre du G8, l'autre pilier nord-américain. Il est la onzième puissance mondiale grâce à ses matières premières et ses recherches technologiques.</p>	<p>- L'....., première puissance commerciale mondiale.</p> <p>-Il représente 20% de la richesse et un quart des échanges internationaux.</p> <p>La puissance de l'union européenne est incomplète. Il y a une disparité entre les métropoles et le reste des autres espaces.</p>	<p>L'Asie orientale connaît un essor considérable.</p> <p>-Troisième puissance économique mondiale, le Japon est frappé depuis 1991 par une série de crises. Les difficultés s'accumulent : consommation ralentie, endettement public, vieillissement de la population ...</p> <p>-L'affirmation des Nouveaux Pays Industrialisés (NPI) met en avant certains pays d'Asie (les Dragons : Corée du Sud, Singapour, Taiwan, Hong-Kong) qui copient le modèle économique japonais dans les années 1960 à 1980.</p> <p>D'autres pays d'Asie (les Tigres : Vietnam, Thaïlande, Malaisie, Indonésie) imitent le modèle japonais.</p> <p>-La façade maritime d'..... de Séoul (Corée du Sud) à Singapour en passant par Hong-Kong comprend de grandes métropoles littorales reliées entre elles par les réseaux de transport.</p> <p>-....., pays émergent, membre des BRICS, membre du G20 s'ouvre au monde dès 2001. Elle devient l'atelier du monde. C'est la première économie mondiale depuis 2015.</p>

## QUESTION

5. Docs 1 p 148 + 2+3 p 181: Montre que les mégalo-poles s'insèrent dans un archipel mégalopolitain mondial ». Justifie avec les documents proposés.

6 .Pages 136-137 :En quoi le quartier de Shibuya à Tokyo est-il un territoire de la mondialisation ? A quelle échelle sommes-nous ? Justifie avec le document.

7.Doc 3 p 167 : En quoi Shanghai Disney est-il un territoire de la mondialisation ? A quelle échelle sommes-nous ? Justifie avec le document.

8.Doc 1 p 208. Enumère les principales façades maritimes majeures .

# CORRECTION

## \*Oralement :

Les élèves travaillent par groupe (sujet A .Des territoires entre intégration et marginalisation et sujet B.Les territoires de la mondialisation : les centres d'impulsion, les aires de puissance, les mégapoles, les interfaces maritimes .)

\*Exercice 4 : prélever, hiérarchiser et confronter des informations

## QUESTION

### A.Des territoires entre intégration et marginalisation

#### 1 Lagos au Nigeria, une métropole à l'intégration contrastée



Avec ses 20 millions d'habitants, ses quartiers d'affaires construits grâce aux revenus pétroliers et ses bidonvilles immenses, Lagos, la plus grande ville du continent africain, symbolise les contrastes de la mondialisation actuelle. Des territoires très intégrés et d'autres marginalisés coexistent dans la ville.

\*Source : Vincent DOUMERC (coordination),2017 ,Manuel scolaire Histoire Géographie Terminale STMG MAGNARD , Page 142



\*Source : Vincent DOUMERC (coordination),2017 ,Manuel scolaire Histoire Géographie Terminale STMG MAGNARD , Page 143

#### 3 L'inégale intégration de la Chine à la mondialisation

1.Doc 1 p 142 et 3 p 143 :Décris les territoires qui se marginalisent ou ceux qui attirent les hommes et les activités grâce à la mondialisation et précise à chaque fois l'échelle .Justifie avec les deux documents .

A l'échelle locale (doc 1 p 142), Lagos , la plus grande ville africaine se compose :

- d'un territoire intégré à la mondialisation par ses activités : le quartier des affaires au fond de la photographie visible avec des gratte-ciels et
- d'un territoire marginalisé : les bidonvilles où s'amassent les populations pauvres au premier plan.

A l'échelle nationale(doc 3 p 143) , la Chine se compose :

- d'un territoire intégré à la mondialisation : les littoraux à l'est du pays où se concentrent les plus grandes villes du pays mais aussi où s'investissent les IDE (Investissements directs à l'étranger) et exportent les produits vers l'étranger.On peut citer dans la région de Guangdong l'exemple de Hong-Kong qui exporte entre 200-600 milliards de dollars en 2013 et reçoit 513 milliards d'investissements en 2013.
- Et d'un territoire marginalisé à l'intérieur de la Chine composé de campagnes (Gansu...) et d'espaces montagneux (Tibet ...)

\*Oralement :

-Nous assistons à des contrastes spatiaux :

- Des espaces exclus de la mondialisation : les quartiers pauvres comme les bidonvilles de Lagos au premier plan à l'échelle locale(doc 1 p 142),
- et les littoraux , des espaces ouverts sur la mondialisation (doc 3 p 143) qui attire les hommes et les activités et les investissements .On peut parler de littoralisation des hommes, des activités et des capitaux.

\*Définitions

**-La mondialisation** est la généralisation des échanges de toute nature à l'échelle planétaire (Ex la vente d'un produit fabriqué ).

**-Un territoire** est :

1.un espace délimité par des frontières et soumis à l'autorité d'un pouvoir central.

2.un espace approprié par un groupe selon des références culturelles, historiques ou encore naturelles.Il est souvent organisé et aménagé en fonction de ses besoins, de ses valeurs .p 267.

**-Ville mondiale** est une ville qui concentre les fonctions de commandement et de direction à l'échelle mondiale.

**-Une interface** est une zone de contact entre deux espaces de nature différente. p 149

**-Intégration** est un processus qui relie fortement un territoire aux espaces dynamiques de la mondialisation (centres d'impulsion) p. 143

**-Marginalisation** est un processus qui exclut certains espaces trop éloignés du centre et peu reliés à lui . p. 143

**-Pays émergent** est un pays connaissant un développement économique rapide, avec un PIB par habitant inférieur à celui des pays développés mais s'en rapprochant. p . 266

**-Les BRICS** (Brésil,Russie,Inde,Chine,Afrique du Sud) est le groupe des cinq pays émergents dont le poids économique augmente depuis le début du XXI<sup>e</sup> siècle.

**-Les FTN** sont des firmes transnationales à savoir des entreprises dont les activités de décision,de production et de distribution sont implantées au moins dans six pays (voir schéma p. 187). =>p. 264

## 2 La marginalisation du continent africain : des facteurs multiples

De nombreux facteurs expliquent les faibles performances africaines. La fragmentation ethno-linguistique du continent, les facteurs géographiques (éloignement des côtes, pauvreté des sols), historiques (mauvaise spécialisation, poids de la colonisation), politiques (instabilité, corruption) et la défaillance des infrastructures sont souvent mis en avant. En outre, l'exposition des économies africaines aux chocs extérieurs est accrue du fait de leur spécialisation primaire<sup>1</sup> et de leur relative petite taille. Elles pâtissent d'un faible taux d'investissement [en capitaux], de distorsions en faveur de secteurs non directement productifs, d'une demande intérieure insuffi-

sante et de systèmes financiers peu développés.

Les facteurs démographiques et les « trappes à pauvreté » [...] peuvent [...] conduire à des blocages. Ainsi la pauvreté peut engendrer la conflictualité qui, en retour, agit aux niveaux alimentaire, sanitaire ou éducatif. Le faible niveau de revenu génère également un faible taux d'épargne, qui conduit à une stagnation de la productivité. Celle-ci entraîne à son tour un faible niveau de revenu.

« L'Afrique dans le contexte de la mondialisation », *L'Afrique subsaharienne, de la décolonisation à la mondialisation*, La Documentation française, 2011.

<sup>1</sup> Économies basées sur l'exportation de produits primaires (minerais, hydrocarbures, produits agricoles à faible valeur ajoutée).

\*Source : Vincent DOUMERC (coordination), 2017, Manuel scolaire Histoire Géographie Terminale STMG MAGNARD, Page 142

## 4 Les territoires en marge de la mondialisation dans les pays du Nord

*Touchée par la crise de l'automobile, la ville de Detroit, aux États-Unis, tente de se reconvertir.*

La ville qui a compté près de 2 millions d'habitants au temps de sa splendeur, n'en comptait plus que 700 000 en 2011. En récession depuis 2001, le Michigan affiche en 2013 le plus fort taux de chômage des États-Unis (40 % de la population). Entre 2000 et 2008, [...] ce sont 400 000 emplois qui ont été perdus.

Detroit est devenue la grande ville la plus pauvre des États-Unis, avec près de 4 habitants sur 10 sous le seuil de pauvreté l'an passé et l'un des taux de criminalité les plus élevés [...]. La municipalité, lestée d'une dette de 18 milliards de dollars, se déclare en faillite en juillet 2013. [...]

Grâce à des transactions réalisées à tour de bras, Dan Gilbert, milliardaire et homme d'affaires natif de Detroit, possédait en mai dernier près du quart des propriétés du centre de la ville. Décrit comme le possible sauveur de la ville, le magnat de la finance affirme vouloir bâtir là son futur empire. Et des start-up du numérique, qui ont répondu à l'appel « *Made in Detroit* » lancé l'an dernier, se sont ruées sur la ville. Leur ambition : faire de la ville une seconde Silicon Valley<sup>1</sup>.

Jean-Michel Gradt, « Detroit essaie de redémarrer », *lesechos.fr*, 11 janvier 2016.

<sup>1</sup> Région qui concentre les industries de pointe en Californie dans la région de San Francisco.

\*Source : Vincent DOUMERC (coordination), 2017, Manuel scolaire Histoire Géographie Terminale STMG MAGNARD, Page 143

2.Doc 2 p 142+ 4 p 143 : Donne les principales raisons qui peuvent expliquer la marginalisation de certains territoires. Justifie avec les deux documents en précisant les territoires concernés.

-La marginalisation du continent africain s'explique :

- par « une fragmentation ethno-linguistique du continent,
- par les facteurs géographiques (éloignement des côtes, pauvreté des sols),
- par les facteurs historiques (mauvaise spécialisation, poids de la colonisation),
- par les facteurs politiques (instabilité, corruption),
- par la défaillance des infrastructures (lignes 2-7 doc 2 p 142).
- D'autres facteurs sont indiqués dans le texte : « un faible taux d'investissement en capitaux » (lignes 11-12 doc 2 p 142), « une demande inférieure insuffisante et de systèmes financiers peu développés » (lignes 13-14 doc 2 p 142) et la pauvreté, les facteurs démographiques.

-La marginalisation des territoires en marge de la mondialisation dans les pays du Nord s'explique par « le plus fort taux de chômage des États-Unis (40% de la population) » (lignes 4-5 doc 4 p 143 pour Détroit, « l'un des taux de criminalité les plus élevés » (lignes 9-10 doc 4 p 143) et un endettement de la ville.

\*Oralement :

-La marginalisation du continent africain connaît de multiples facteurs économiques (faible taux d'investissement en capitaux...) sociaux (la pauvreté), culturels et religieux (divisions entre les peuples africains et leurs religions), politiques (instabilité, corruption) historiques (poids de la colonisation...)

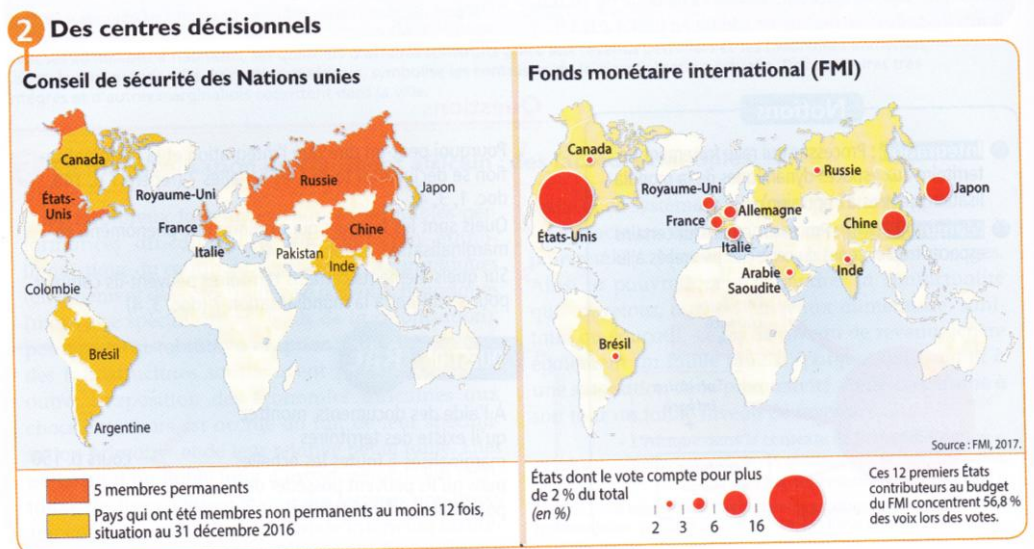
-La marginalisation des territoires américains en marge : Détroit dit Shrinking City connaît des facteurs économiques et sociaux (le chômage, criminalité, dette...).

\*Définitions

**-Shrinking city** signifie une ville en déclin ou en dépeuplement urbain

**-Intégration** est un processus qui relie fortement un territoire aux espaces dynamiques de la mondialisation (centres d'impulsion) p. 143

**-Marginalisation** est un processus qui exclut certains espaces trop éloignés du centre et peu reliés à lui . p. 143



\*Source : Vincent DOUMERC (coordination), 2017, Manuel scolaire Histoire Géographie Terminale STMG MAGNARD, Page 144

**4 Des économies interdépendantes : l'exemple de l'UE et des États-Unis**

Les économies de l'Union européenne (UE) et des États-Unis (É-U) représentent, à elles deux, près de la moitié du PIB mondial et un tiers des échanges internationaux. En 2015, l'UE est le premier partenaire commercial des États-Unis.

**a. Échanges de biens et de services entre 2012 à 2014**

en milliards d'euros	Biens importés des É-U	Biens exportés vers les É-U	Services importés des É-U	Services exportés vers les É-U
2012	206,5	293,2	148,9	163,0
2013	196,2	289,5	159,9	180,7
2014	206,1	311,0	182,1	193,6

**b. Investissements**

en milliards d'euros	États-Unis vers UE	UE vers les États-Unis
2013	1 651,6	1 686,5

Source des deux tableaux : Commission européenne, DG TRADE, 2016.

\*Source : Vincent DOUMERC (coordination), 2017, Manuel scolaire Histoire Géographie Terminale STMG MAGNARD, Page 145

3. Docs 2 p 144+ 4 p 145 : Pourquoi peut-on dire que les États-Unis possèdent un centre d'impulsion qui est un centre décisionnel ?

On peut dire que le centre d'impulsion aux États-Unis est un centre décisionnel car

- ils sont contributeurs du FMI (leur vote compte pour plus de 16% dans les décisions du FMI doc 2 p 144),
- ils sont membres permanents du Conseil de sécurité (doc 2 p 144) .
- Ils représentent avec l'Union européenne près de la moitié du PIB mondial et un tiers des échanges internationaux (doc 4 p 145)

\*Oralement :

-Les États-Unis possèdent un centre d'impulsion qui correspond à la mégapole américaine de la côte est qui se compose de plusieurs villes mondiales (New York, Washington...). Les États-Unis votent pour plus de 16% dans les décisions du FMI et sont membres permanents du Conseil de sécurité.



**\*Définitions**

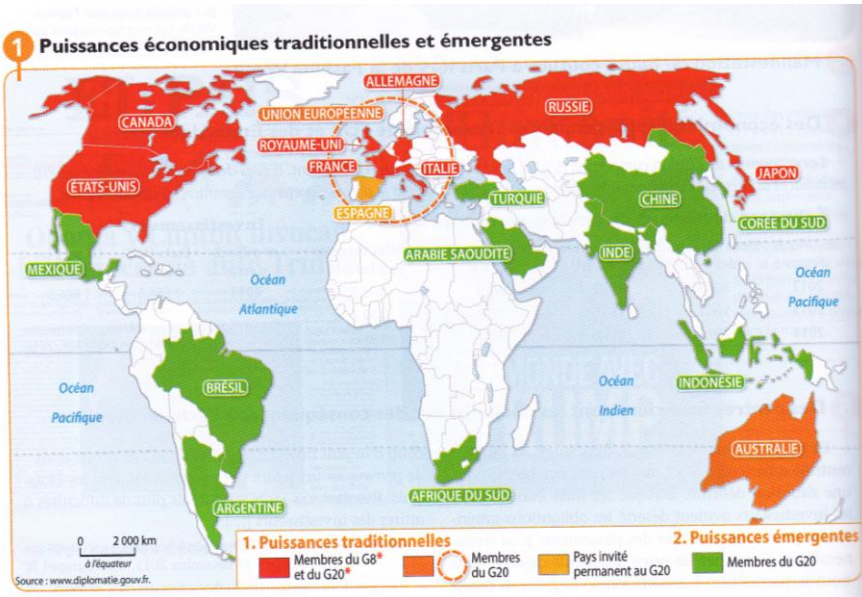
**-Ville mondiale** est une ville qui concentre les fonctions de commandement et de direction à l'échelle mondiale.

**-Mégalopole** est une vaste région urbaine qui s'organise autour de métropoles reliées entre elle par des réseaux de communication et de transports.p.149

**-Intégration** est un processus qui relie fortement un territoire aux espaces dynamiques de la mondialisation (centres d'impulsion) p. 143

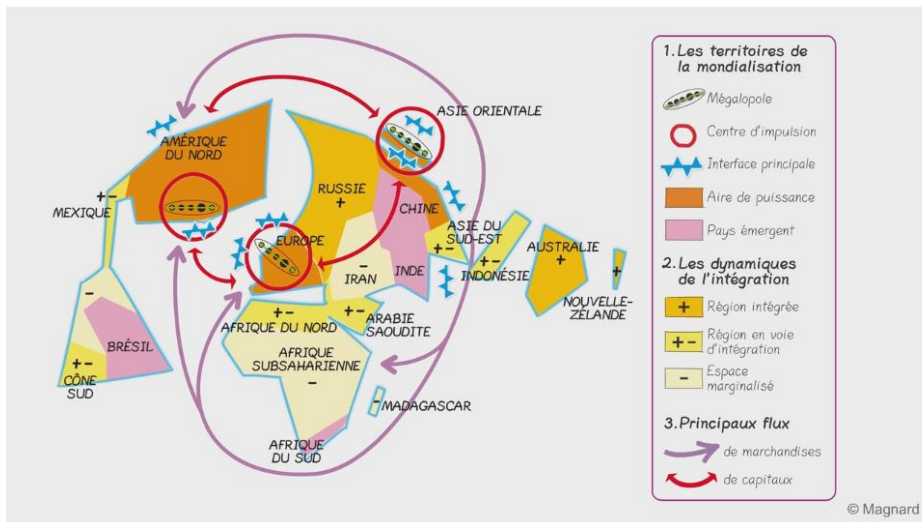
**-Centres d'impulsion** est un espace de décision qui concentre les différents aspects de la puissance (politique, économique, culturelle...) et qui peut les diffuser à l'échelle mondiale. p. 145

**B. Les territoires de la mondialisation : les centres d'impulsion, les aires de puissance, les mégalopoles, les interfaces maritimes .**



\*Source : Vincent DOUMERC (coordination),2017 ,Manuel scolaire Histoire Géographie Terminale STMG MAGNARD , Page 146

**HISTOIRE GÉOGRAPHIE TLE STMG - SCHÉMAS BILANS**



\*Sur le site de MAGNARD

Accéder aux ressources : <http://www.lienmini.fr/>

Il faut ensuite taper le lien sur le livre **hg-tle-010** pour la carte page 162

Schéma entier sous forme vidéo

**CENTRES D'IMPULSION ET INÉGALE INTÉGRATION**

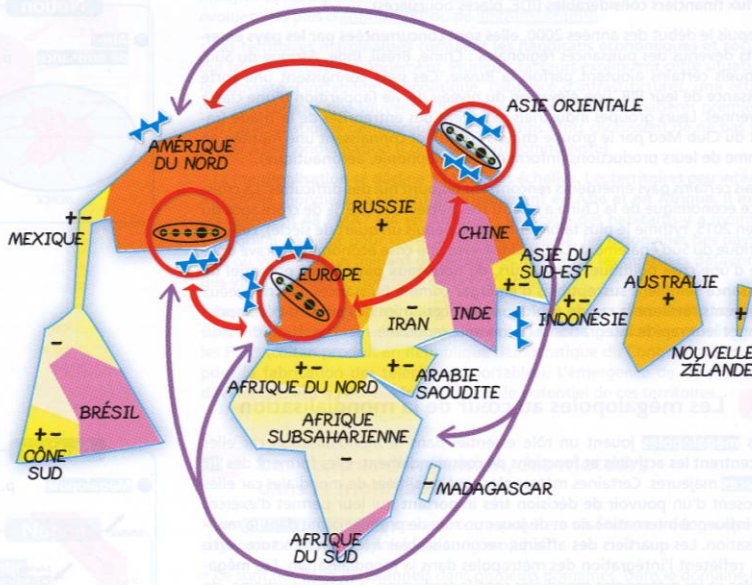
© Magnard

# Centres d'impulsion et inégale intégration



[lienmini.fr/hg-tle-010](http://lienmini.fr/hg-tle-010)

## Schéma-bilan commenté



### 1. Les territoires de la mondialisation

- Mégalopole
- Centre d'impulsion
- Interface principale
- Aire de puissance
- Pays émergents

### 2. Les dynamiques de l'intégration

- Région intégrée
- Région en voie d'intégration
- Espace marginalisé

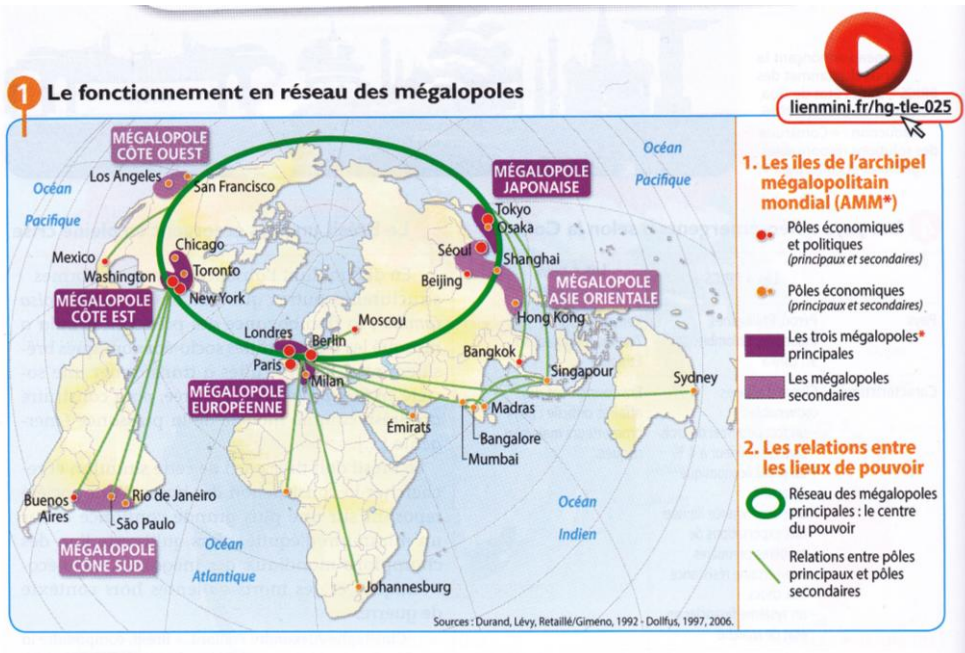
### 3. Les principaux flux

- de marchandises
- de capitaux

\*Source : Vincent DOUMERC (coordination), 2017, Manuel scolaire Histoire Géographie Terminale STMG MAGNARD, Page 152

4.Doc 1 p 146 +3 p 152.Complète le tableau suivant en t'aidant des documents proposés.

<p>L'<b>Amérique du Nord</b> , un pôle lié à la puissance étatsunienne.</p>	<p>L'intégration inachevée de l'Europe</p>	<p>L'affirmation d'une aire de puissance asiatique.</p>
<p>-Les <b>Etats-Unis</b> représentent un quart de la richesse mondiale pour 5,4% de la population.</p> <p>-Ils possèdent un tiers des 500 plus grandes firmes mondiales et des chercheurs.</p> <p>-Ils ont une puissance militaire sans égale dans le monde</p> <p>-Ils exportent leur modèle culturel dans le monde.</p> <p>-Le <b>Canada</b>,membre du G8, l'autre pilier nord-américain.Il est la onzième puissance mondiale grâce à ses matières premières et ses recherches technologiques.</p>	<p>-<b>L'Union européenne</b> ,première puissance commerciale mondiale.</p> <p>-Il représente 20% de la richesse et un quart des échanges internationaux.</p> <p>La puissance de l'union européenne est incomplète.Il y a une disparité entre les métropoles et le reste des autres espaces.</p>	<p>L'Asie orientale connaît un essor considérable.</p> <p>-Troisième puissance économique mondiale, le Japon est frappé depuis 1991 par une série de crises.Les difficultés s'accumulent : consommation ralentie, endettement public, vieillissement de la population ...</p> <p>-L'affirmation des Nouveaux Pays Industrialisés (NPI) met en avant certains pays d'Asie (les Dragons : Corée du Sud, Singapour, Taiwan,Hong-Kong) qui copient le modèle économique japonais dans les années 1960 à 1980.</p> <p>D'autres pays d'Asie (les Tigres : Vietnam, Thaïlande,Malaisie,Indonésie) imitent le modèle japonais.</p> <p>-La façade maritime d'<b>Asie orientale</b> de Séoul (Corée du Sud) à Singapour en passant par Hong-Kong comprend de grandes métropoles littorales reliées entre elles par les réseaux de transport.</p> <p><b>La Chine</b> ,pays émergent, membre des BRICS, membre du G20 s'ouvre au monde dès 2001.Elle devient l'atelier du monde. C'est la première économie mondiale depuis 2015.</p>

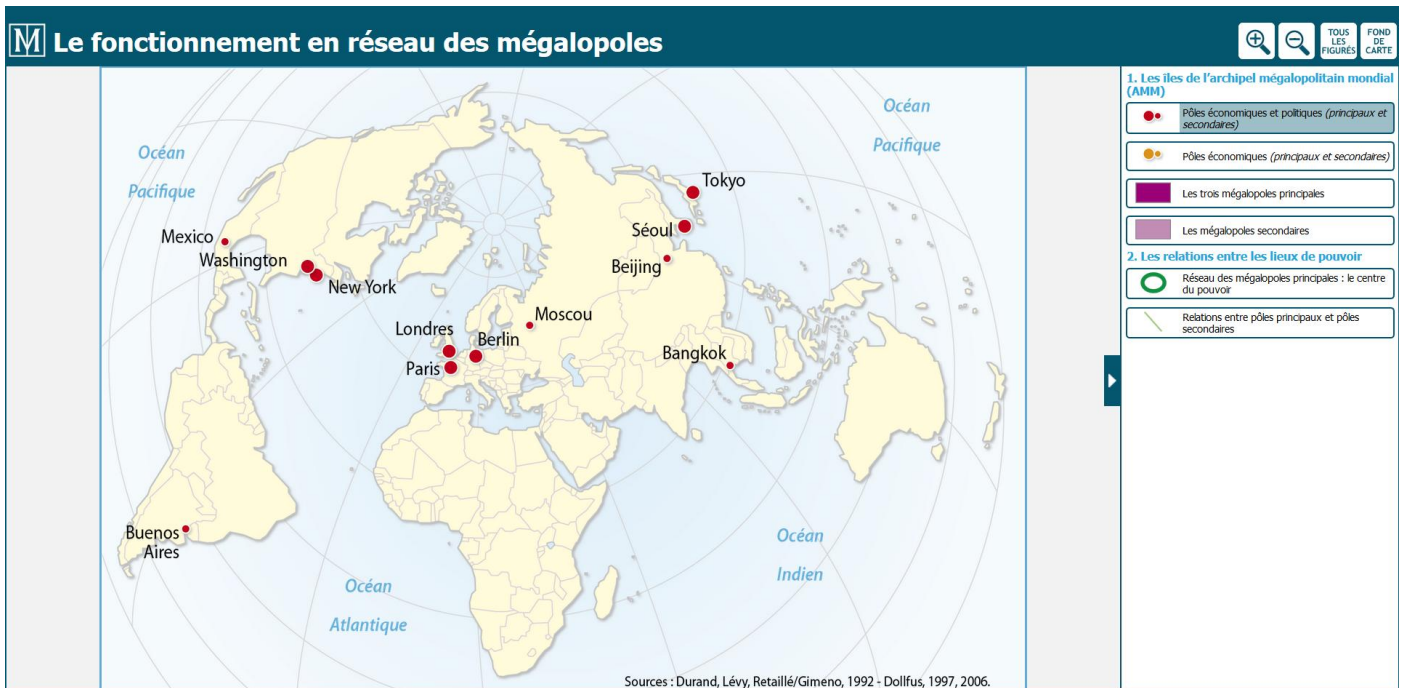


\*Sur le site de MAGNARD

Accéder aux ressources : <http://www.lienmini.fr/>

Il faut ensuite taper le lien sur le livre **hg-tle-025** pour la carte page 162

\*Source : Vincent DOUMERC (coordination), 2017, Manuel scolaire Histoire Géographie Terminale STMG MAGNARD, Page 148



# M Le fonctionnement en réseau des mégapoles

TOUS LES FIGURES FOND DE CARTE

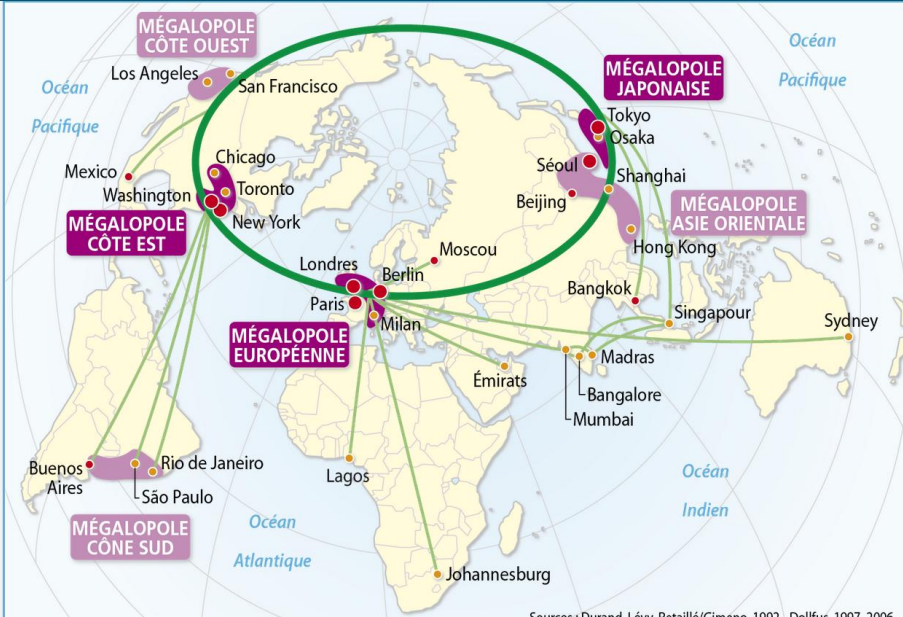


Sources : Durand, Lévy, Retailé/Gimeno, 1992 - Dollfus, 1997, 2006

1. Les îles de l'archipel mégapolitain mondial (AMM)
  - Pôles économiques et politiques (principaux et secondaires)
  - Pôles économiques (principaux et secondaires)
  - Les trois mégapolites principales
  - Les mégapolites secondaires
2. Les relations entre les lieux de pouvoir
  - Réseau des mégapolites principales : le centre du pouvoir
  - Relations entre pôles principaux et pôles secondaires

# M Le fonctionnement en réseau des mégapoles

TOUS LES FIGURES FOND DE CARTE



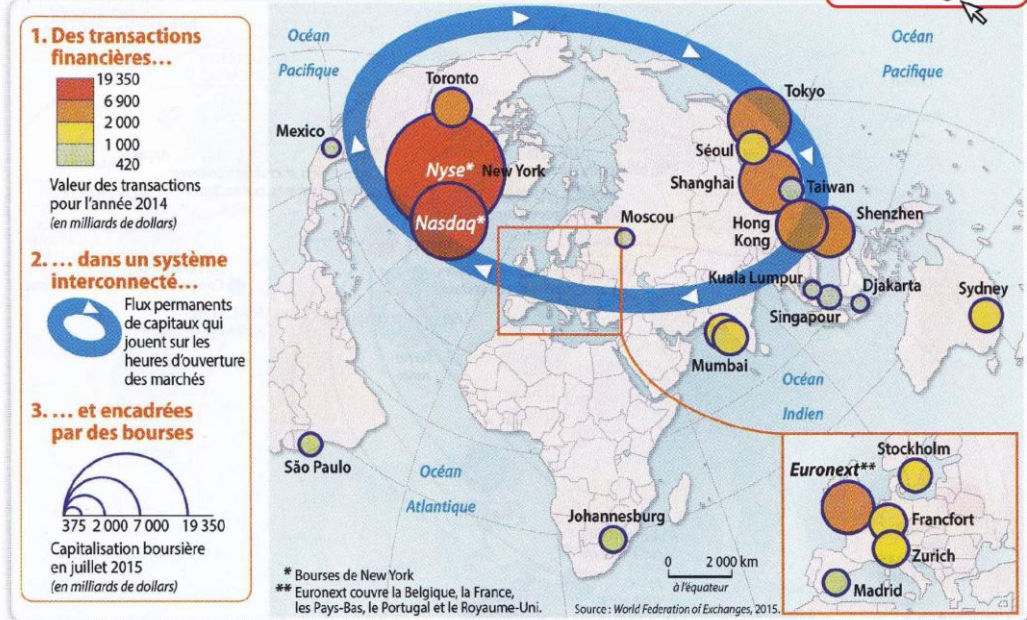
Sources : Durand, Lévy, Retailé/Gimeno, 1992 - Dollfus, 1997, 2006.

1. Les îles de l'archipel mégapolitain mondial (AMM)
  - Pôles économiques et politiques (principaux et secondaires)
  - Pôles économiques (principaux et secondaires)
  - Les trois mégapolites principales
  - Les mégapolites secondaires
2. Les relations entre les lieux de pouvoir
  - Réseau des mégapolites principales : le centre du pouvoir
  - Relations entre pôles principaux et pôles secondaires

## 2 La mondialisation de la planète : les flux financiers



[lienmini.fr/hg-tle-027](http://lienmini.fr/hg-tle-027)



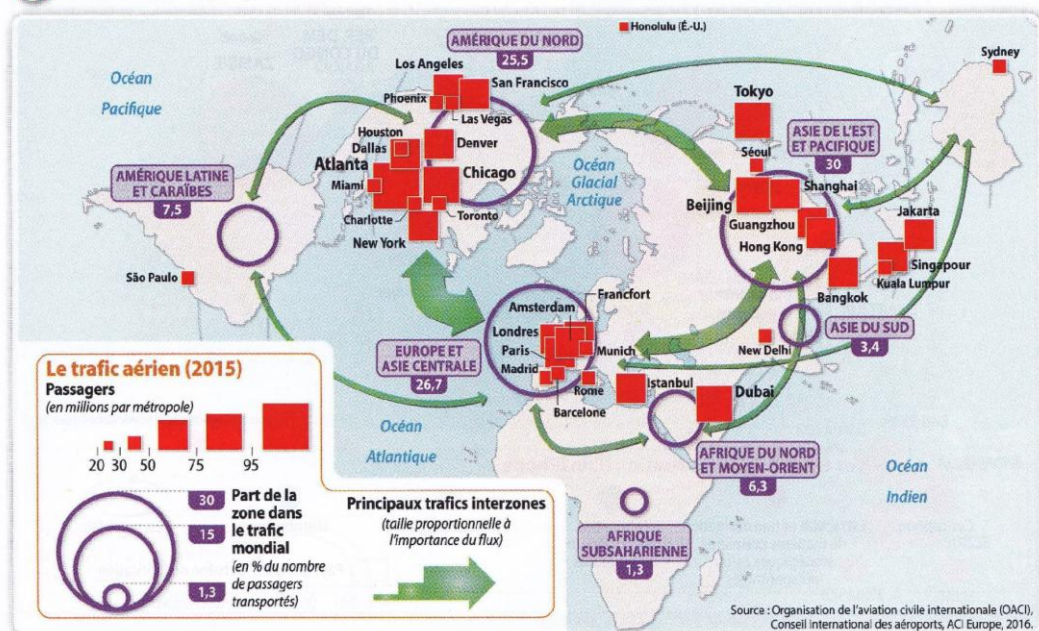
\*Sur le site de MAGNARD

Accéder aux ressources : <http://www.lienmini.fr/>

Il faut ensuite taper le lien sur le livre

hg-tle-027 pour la carte page 181

## 3 Les flux aéroportuaires dans le monde

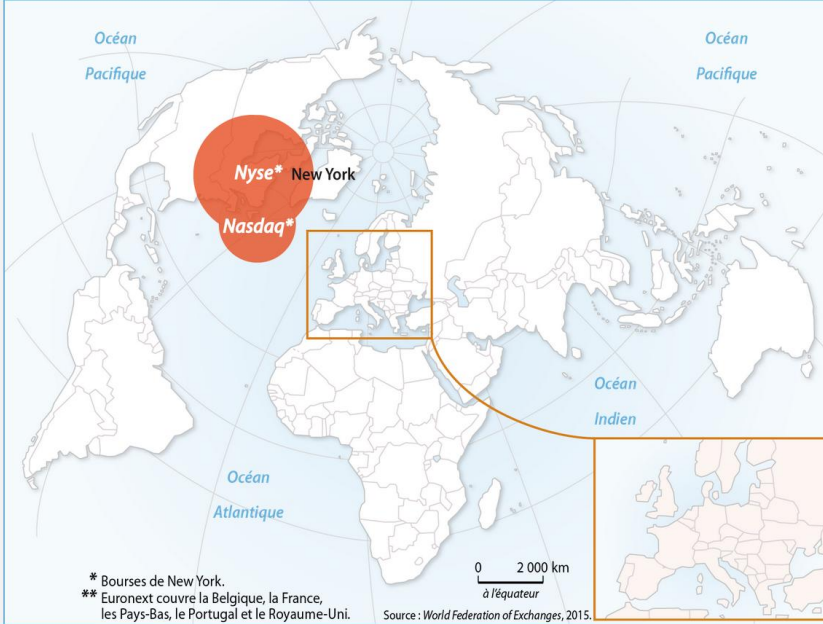


\*Source : Vincent DOUMERC (coordination), 2017, Manuel scolaire Histoire Géographie Terminale STMG MAGNARD, Page 181

La mondialisation : acteurs, flux et réseaux

# M La mondialisation de la planète : les flux financiers

TOUS LES FIGURES FOND DE CARTE



**1. Des transactions financières...**  
 Valeur des transactions pour l'année 2014  
 (en milliards de dollars)

- 6 900 – 19 350
- 2 000 – 6 900
- 1 000 – 2 000
- 420 – 1 000

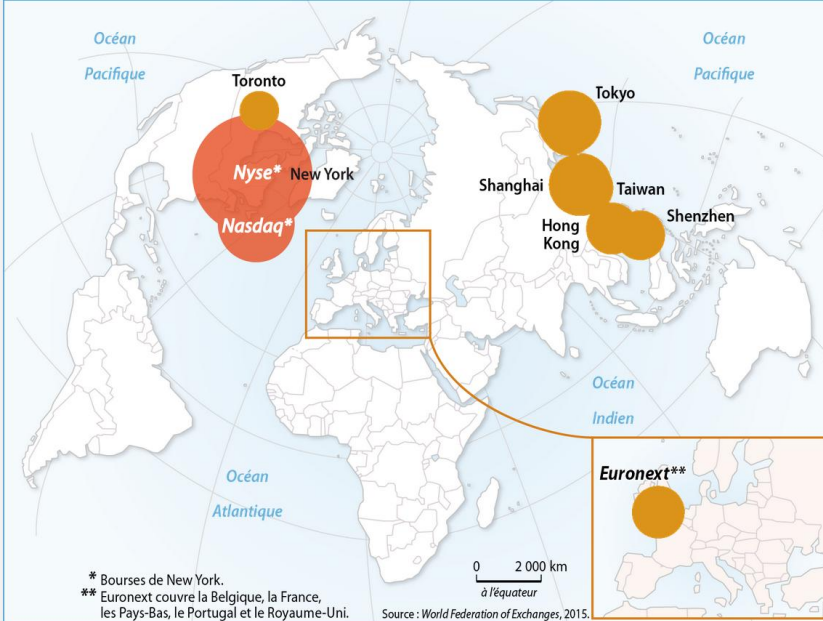
**2. ... dans un système interconnecté...**  
 Flux permanents de capitaux qui jouent sur les heures d'ouverture des marchés

**3. ... et encadrées par des bourses**  
 Capitalisation boursière en juillet 2015  
 (en milliards de dollars)

- 375, 2 000, 7 000, 19 350

# M La mondialisation de la planète : les flux financiers

TOUS LES FIGURES FOND DE CARTE



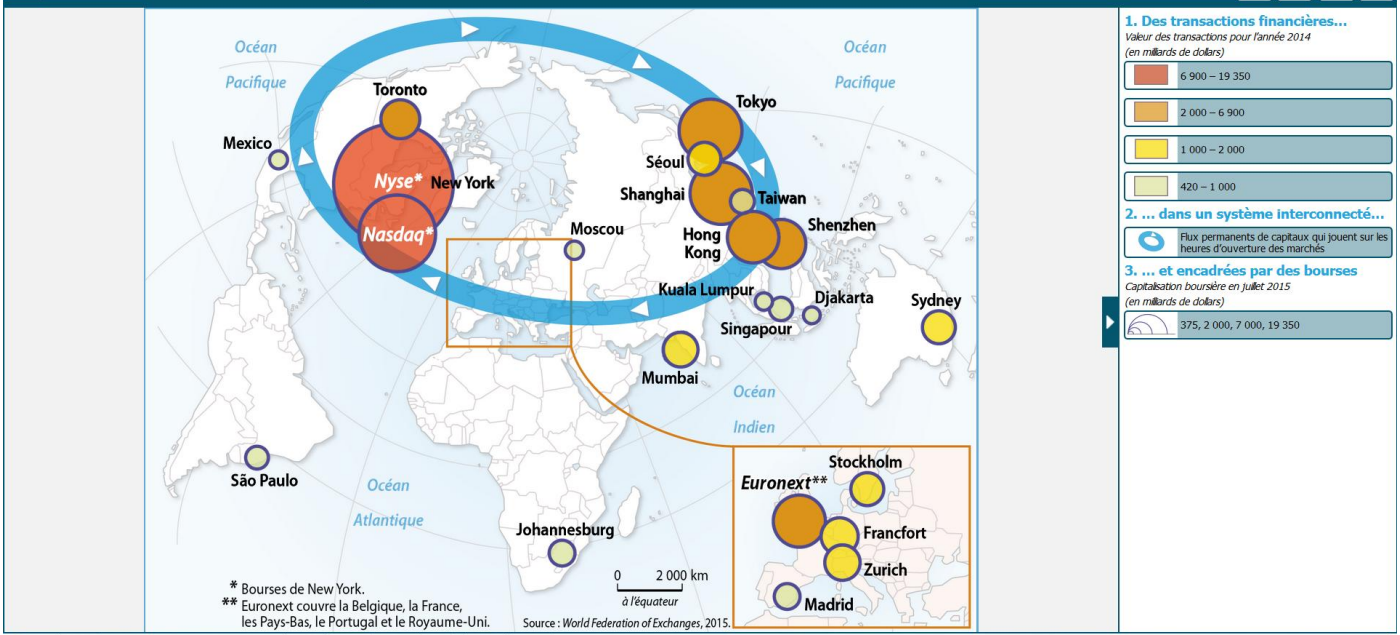
**1. Des transactions financières...**  
 Valeur des transactions pour l'année 2014  
 (en milliards de dollars)

- 6 900 – 19 350
- 2 000 – 6 900
- 1 000 – 2 000
- 420 – 1 000

**2. ... dans un système interconnecté...**  
 Flux permanents de capitaux qui jouent sur les heures d'ouverture des marchés

**3. ... et encadrées par des bourses**  
 Capitalisation boursière en juillet 2015  
 (en milliards de dollars)

- 375, 2 000, 7 000, 19 350



**QUESTION**

5. Docs 1 p 148 + 2+3 p 181: Montre que les mégalo-pôles s'insèrent dans un archipel mégapolitain mondial ». Justifie avec les documents proposés.

Les mégalo-pôles sont connectées entre elles (doc 1 p 148 ) par les flux matériels (doc 3 p 181 : transport aérien principalement) et par des flux immatériels (90% des flux financiers y transitent)

\*Oralement :

Les mégalo-pôles (mégalo-pôle japonaise, mégalo-pôle européenne, mégalo-pôle côte est des Etats-Unis, mégalo-pôle côte ouest des Etats-Unis, la mégalo-pôle Côte Sud, mégalo-pôle Asie orientale) forment un réseau qui les relie entre elles par l'avion (doc 2 p 181 trafic aérien) et par l'internet (flux financiers)

\*Définitions

**-Mégalo-pôle** est une vaste région urbaine qui s'organise autour de métropoles reliées entre elle par des réseaux de communication et de transports. p.149

**Archipel mégapolitain mondial (AMM)** est la mise en réseau planétaire des principales métropoles et régions urbaines. p 262





\*Source : Vincent DOUMERC (coordination), 2017, Manuel scolaire Histoire Géographie Terminale STMG MAGNARD , Page 136-137

**QUESTION**

6 .Pages 136-137 :En quoi le quartier de Shibuya à Tokyo est-il un territoire de la mondialisation ? A quelle échelle sommes-nous ? Justifie avec le document.

Le quartier de Shibuya à Tokyo (pages 136-137) est un territoire de la mondialisation car il est connecté au reste du monde (voir les enseignes de publicité ) , il comporte des activités tertiaires (magasins de vêtement Immeuble 109 Avenue ).C'est un quartier des affaires peuplé et bien relié au reste de Tokyo. Nous sommes à l'échelle locale.

*\*Oralement :*

*-Ce quartier est un hyper lieux, un haut lieu de la mondialisation. Il est peuplé, il attire les activités dynamisantes (tertiaires : communication , restaurant, cinéma..).C'est un quartier des affaires important de la ville de Tokyo.*



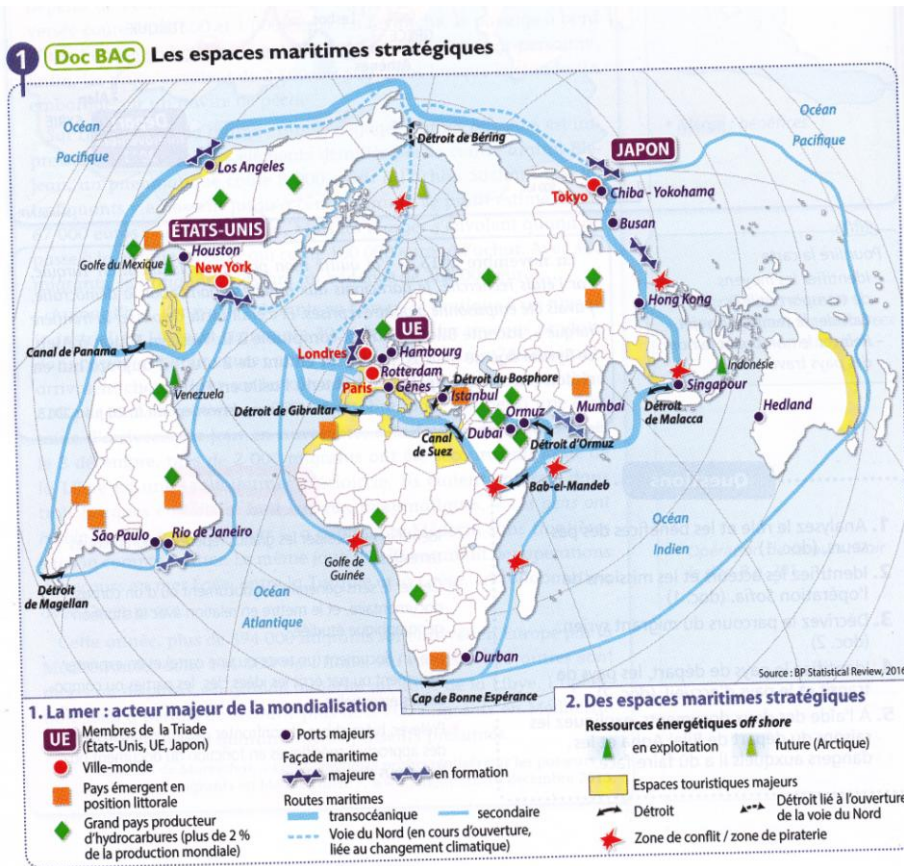
\*Source : Vincent DOUMERC (coordination), 2017, Manuel scolaire Histoire Géographie Terminale STMG MAGNARD, Page 167

7.Doc 3 p 167 : En quoi Shanghai Disney est-il un territoire de la mondialisation ? A quelle échelle sommes-nous ? Justifie avec le document.

Shanghai Disney (doc 3 p 167) est un territoire de la mondialisation car c'est un espace de tourisme international. Il attire des touristes du monde entier ; c'est le deuxième parc installé en Chine et le 6<sup>e</sup> au monde. Nous sommes à l'échelle locale.

*\*Oralement :*

*-Cette question permet de voir le tourisme mondial et ses espaces intégrés à la mondialisation.*



\*Source : Vincent DOUMERC (coordination), 2017, Manuel scolaire Histoire Géographie Terminale STMG MAGNARD, Page 208

8.Doc 1 p 208. Enumère les principales façades maritimes majeures .

Les principales façades maritimes majeures (doc 1 p 208 ) sont la façade atlantique des Etats-unis la façade pacifique des Etats-Unis, la façade atlantique du Brésil, la façade japonaise, la façades chinoise la façade indienne.

\*Exercice 5 : Réaliser un croquis .

II-Maîtriser des outils et méthodes spécifiques. 2.Organiser et synthétiser des informations : **réaliser des cartes, croquis** et schémas cartographiques, des organigrammes, des diagrammes et schémas fléchés, des graphes de différents types (évolution, répartition)

\*Oralement :

-C'est l'occasion d'aborder le rôle du croquis. On étudie les éléments qui composent le croquis (un titre, une légende ordonnée, un croquis). C'est l'occasion de rappeler les types de figurés , le jeu des couleurs, le jeu des tailles d'écriture selon les éléments à cartographier....

Voir le langage cartographique. (fin du livre)








# Langage cartographique

## COMMENT LIRE UNE CARTE OU UN CROQUIS







### IDENTIFIER LA NATURE DE L'INFORMATION ET LES TYPES DE FIGURÉS

### LIRE LES FIGURÉS






#### Les SURFACES COLORÉES représentent des espaces homogènes :

<p>des espaces de différente nature</p>	<ul style="list-style-type: none"> <li>1918 : pays vainqueurs </li> <li>pays vaincus </li> <li>Espace à activité :             <ul style="list-style-type: none"> <li>agricole </li> <li>industrielle </li> <li>touristique </li> </ul> </li> </ul>	<p>Une couleur par type d'espace</p>
<p>des espaces caractérisés par une information statistique</p>	<ul style="list-style-type: none"> <li>Résultats électoraux                          0 15 20 30 (% des suffrages exprimés)           </li> <li>Densité de population                          0 10 50 200 (habitants/km<sup>2</sup>)           </li> </ul>	<p>Plusieurs couleurs pour représenter une gradation :</p> <ul style="list-style-type: none"> <li>de 0 à 15 % ou 16 à 20% ou 21 à 30 % des suffrages exprimés</li> <li>de 0 à 10 ou 11 à 50 ou 51 à 200 habitants /km<sup>2</sup></li> </ul>


#### Les FIGURÉS PONCTUELS servent à localiser des éléments dans un espace :

<p>des lieux, des territoires, des organismes</p>	<ul style="list-style-type: none"> <li>Pays ayant un droit de veto au Conseil de sécurité de l'ONU </li> <li>Site de production :             <ul style="list-style-type: none"> <li>industriel </li> <li>agroalimentaire </li> </ul> </li> </ul>	<p>Un figuré géométrique, symbole ou pictogramme qui peut être de <b>taille variable</b> pour indiquer une hiérarchie ou des quantités</p>
<p>des événements, des activités</p>	<ul style="list-style-type: none"> <li>Bombardements </li> <li>Pôle commercial </li> </ul>	<p>Pôle - + important</p> 

#### Les FIGURÉS LINÉAIRES représentent des limites et des axes :

<p>des limites entre des espaces</p>	<p>Mur de Berlin </p> <p>Limite de région </p>	<p>Traits dont l'épaisseur peut varier selon l'importance de l'information représentée :</p>
<p>des axes</p>	<p>Axes de communication </p> <p>Fleuve </p>	<p>Axe - + important</p> 

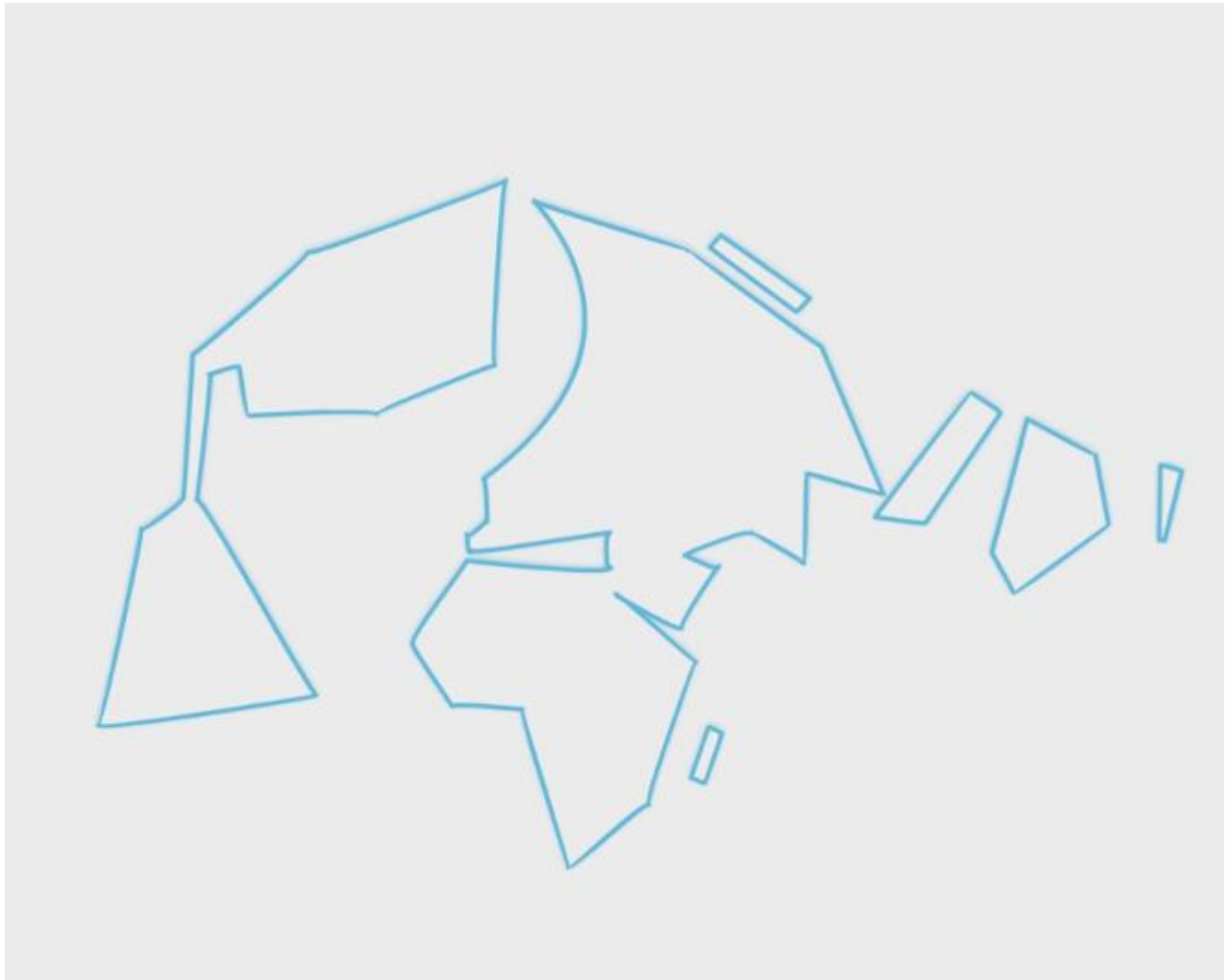
#### Les FLÈCHES matérialisent des flux :

<p>des flux matériels, immatériels ou humains</p>	<p>Exportations (millions de tonnes) </p> <p>Migrations de population (milliers de personnes) </p>	<p>Flèches dont l'épaisseur peut varier selon l'importance de l'information représentée :</p> <p>Migration - + importante</p> 
---	--	---

\*Que retenir ?

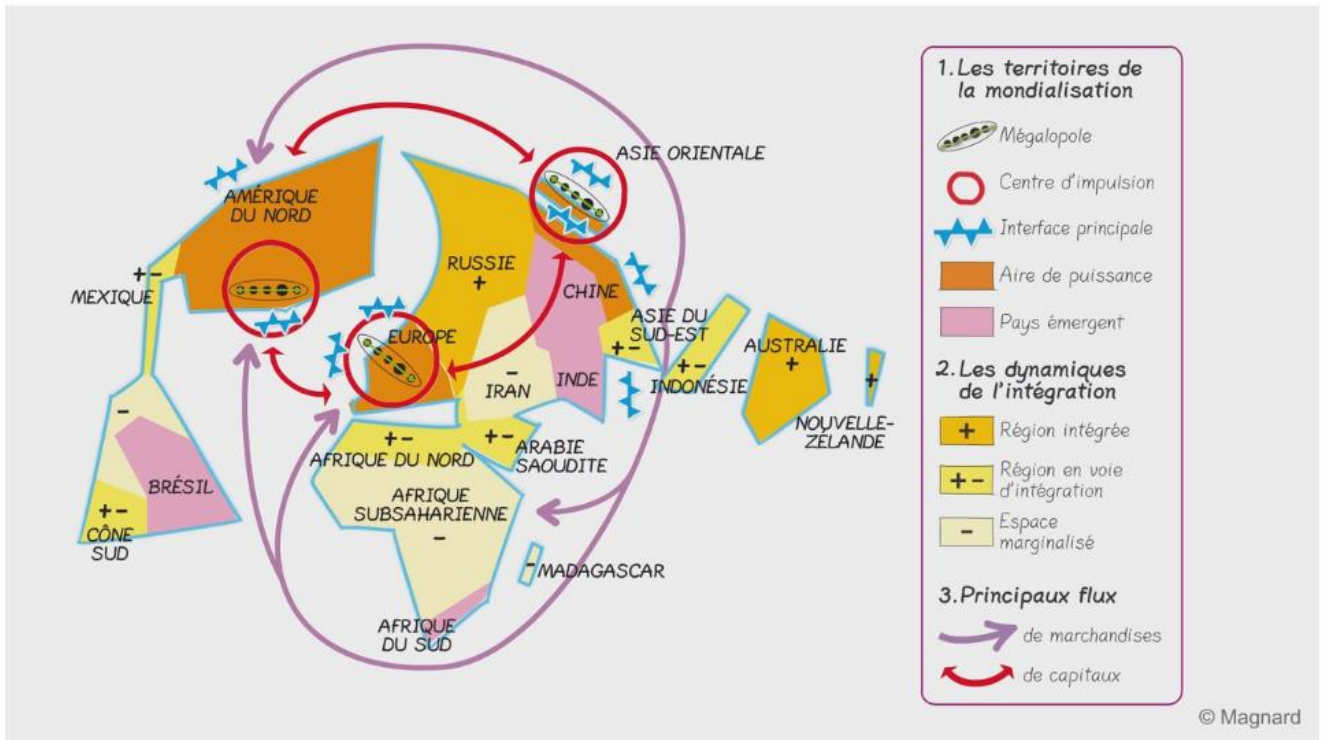
-Schéma page 152

FOND DE CROQUIS : .....



LEGENDE

# HISTOIRE GÉOGRAPHIE TLE STMG - SCHÉMAS BILANS



## CENTRES D'IMPULSION ET INÉGALE INTÉGRATION

© Magnard

**Thème 1 : Les territoires dans la mondialisation (pages 137-177)**

- Question obligatoire :Centres d'impulsion et inégale intégration
- Sujet d'étude au choix une ville mondiale : Londres ou Shanghai.

\*Je dois savoir :

-définir les mots : Aire de puissance Centre d'impulsion Interface Intégration / Marginalisation  
Mégalopole-mondialisation -FTN-FMI-G20-PMA-IDE-Brexit –AAM-ville mondiale- *Shrinking city*

-répondre aux questions :

- 1 Montre que Londres est une ville mondiale et une métropole régionale de premier rang .
2. Quels sont les atouts de Londres pour rester une ville mondiale importante ?
- 3.Quels sont les défis à relever ?
4. Enumère les territoires intégrés à la mondialisation , en voie d'intégration à la mondialisation et en marge de la mondialisation .
5. Explique à diverses échelles à partir d'une ville mondiale de ton choix que cette dernière est un lieu de la mondialisation : *On peut citer Tokyo qui intègre un réseau d'archipel mégalopolitain mondial(AAM). Cette ville mondiale est connectée à d'autres villes mondiales et au reste du monde. C'est une des villes de la mégalopole japonaise. Elle a plusieurs quartiers des affaires ouverts sur la mondialisation comme Shibuya.*
6. Indique les facteurs qui expliquent la marginalisation des territoires face à la mondialisation

\*Je suis capable de :

- refaire les exercices effectués en classe et à la maison.
- cerner le sens général du document
- prélever, hiérarchiser et confronter les informations
- mettre en relation des faits géographiques
- réaliser un schéma sur Londres
- nomme et localise un lieu dans un espace géographique
- compléter une légende sur les territoires de la mondialisation
- réaliser un croquis sur les territoires de la mondialisation

\*Pour approfondir le cours :

\* <https://vimeopro.com/user36345481/histoire-geographie-tle-stmg-schemas-bilans/video/213225706> : C'est la réalisation du schéma de synthèse MAGNARD Stmg.

\*<https://www.youtube.com/watch?v=a-Db0enN634> :C'est une courte vidéo de 2017 sur les projets de La City, centre financier de Londres : une ville en ébullition et évolution..

\*<https://www.youtube.com/watch?v=ObSFXylmsQM> C'est une vidéo courte sur Shanghai Premier port entièrement automatisé d'Asie

\*Conseils :

Pour bien réviser son contrôle, il est possible de construire un contrôle et son corrigé .

\*DATE DU CONTROLE :